

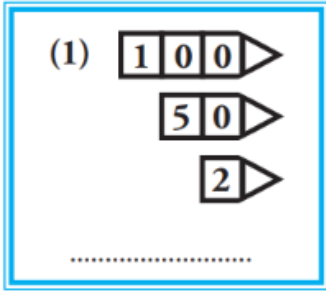


## Education Social Media Network

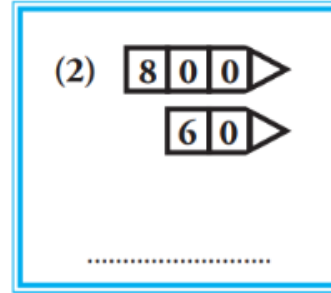
ගණිතය ඒකක ප්‍රශ්න පත්‍ර - 9 (2023)

## 4 - ශ්‍රේණිය

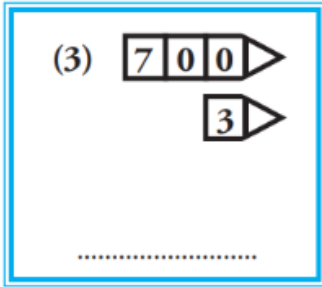
- සංඛ්‍යා හිපත් මගින් නිරූපිත සංඛ්‍යාව තෝරන්න.



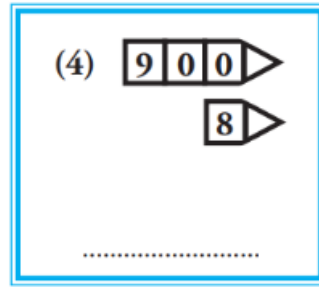
- A. 125  
B. 152  
C. 512



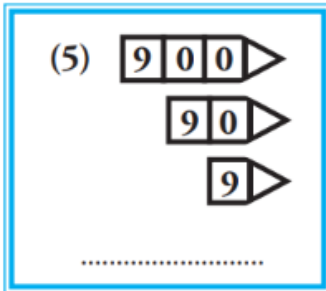
- A. 880  
B. 806  
C. 680



- A. 730  
B. 307  
C. 703



- A. 980  
B. 908  
C. 809



- A. 999  
B. 909  
C. 990

- සතියක් තුළ දී වෙළෙඳසලක අලෙවි වූ පුවත්පත් පිළිබඳ තොරතුරු පහත දැක්වේ.

මාධ්‍යය	පුවත්පත් ගණන
සිංහල	987
දෙමළ	789
ඉංග්‍රීසි	798

(1) වැඩියෙන් ම අලෙවි වී ඇත්තේ කුමන මාධ්‍ය පුවත්පත් ද? එම සංඛ්‍යාව කීයද?

A. සිංහල 987

B. දෙමළ 789

C. ඉංග්‍රීසි 798

(2) අඩුවෙන් ම අලෙවි වී ඇත්තේ කුමන මාධ්‍ය පුවත්පත් ද? එම සංඛ්‍යාව කීය ද?

A. සිංහල 987

B. දෙමළ 789

C. ඉංග්‍රීසි 798

5	1
7	

9	4
0	

8	3
6	

(1) එක් එක් කොටුවේ ඇති ඉලක්කම් තුනම භාවිතයෙන් සෑදිය හැකි විශාල ම සංඛ්‍යා වෙන වෙන ම ලියන්න.

A. 751 , 940 , 863

B. 517 , 904 , 836

C. 175 , 490 , 683

(2) ලියන ලද සංඛ්‍යා තුන කුඩා ම සංඛ්‍යාවේ සිට විශාල ම සංඛ්‍යාව තෙක් පටිපාටියට ලියන්න.

A. 863 , 751 , 940

B. 940 , 751 , 863

C. 751 , 863 , 940

(3) එක් එක් කොටුවේ ඇති ඉලක්කම් තුනම භාවිතයෙන් සෑදිය හැකි කුඩා ම සංඛ්‍යා වෙන වෙන ම ලියන්න.

A. 157 , 409 , 368

B. 571 , 490 , 368

C. 368 , 409 , 157



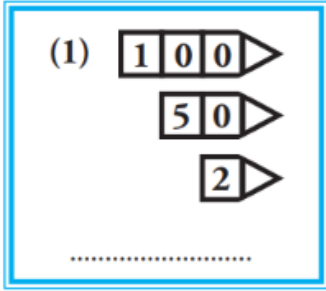
## Education Social Media Network

ගණිතය ඒකක ප්‍රශ්න පත්‍ර - 9 (2023)

4 - ශ්‍රේණිය

පිළිතුරු

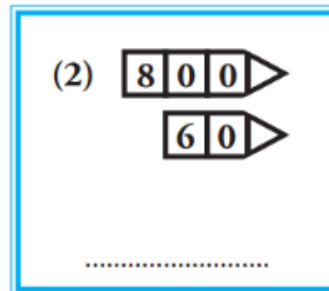
- සංඛ්‍යා හිපත් මගින් නිරූපිත සංඛ්‍යාව තෝරන්න.



A. 125

B. 152

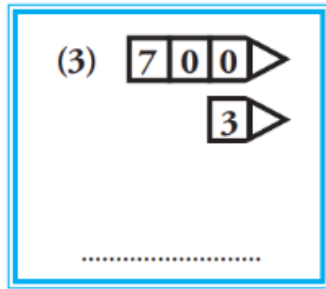
C. 512



A. 880

B. 806

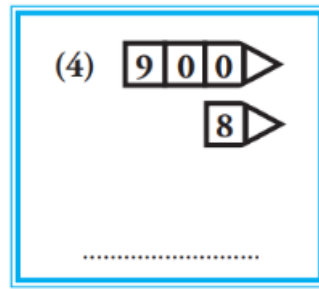
C. 680



A. 730

B. 307

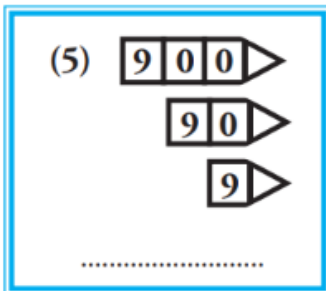
C. 703



A. 980

B. 908

C. 809



A. 999

B. 909

C. 990

- සතියක් තුළ දී වෙළෙඳසලක අලෙවි වූ පුවත්පත් පිළිබඳ තොරතුරු පහත දැක්වේ.

මාධ්‍යය	පුවත්පත් ගණන
සිංහල	987
දෙමළ	789
ඉංග්‍රීසි	798

(1) වැඩියෙන් ම අලෙවි වී ඇත්තේ කුමන මාධ්‍ය පුවත්පත් ද? එම සංඛ්‍යාව කීයද?

A. සිංහල 987

B. දෙමළ 789

C. ඉංග්‍රීසි 798

(2) අඩුවෙන් ම අලෙවි වී ඇත්තේ කුමන මාධ්‍ය පුවත්පත් ද? එම සංඛ්‍යාව කීය ද?

A. සිංහල 987

B. දෙමළ 789

C. ඉංග්‍රීසි 798

5 1  
7

9 4  
0

8 3  
6

(1) එක් එක් කොටුවේ ඇති ඉලක්කම් තුනම භාවිතයෙන් සෑදිය හැකි විශාල ම සංඛ්‍යා වෙන වෙන ම ලියන්න.

A. 751, 940, 863

B. 517, 904, 836

C. 175, 490, 683

(2) ලියන ලද සංඛ්‍යා තුන කුඩා ම සංඛ්‍යාවේ සිට විශාල ම සංඛ්‍යාව තෙක් පටිපාටියට ලියන්න.

A. 863, 751, 940

B. 940, 751, 863

C. 751, 863, 940

(3) එක් එක් කොටුවේ ඇති ඉලක්කම් තුනම භාවිතයෙන් සෑදිය හැකි කුඩා ම සංඛ්‍යා වෙන වෙන ම ලියන්න.

A. 157, 409, 368

B. 571, 490, 368

C. 368, 409, 157