



# Education Social Media Network

## ගණිතය ඒකක ප්‍රශ්න පත්‍ර - 8 (2023)

### 4 - ශ්‍රේණිය

පහත දැක්වෙන සංඛ්‍යාවල සංඛ්‍යා නාමය තෝරන්න

(1) සියයස්ථානය 4, දහයස්ථානය 7 සහ එකස්ථානය 5 වන ලෙස ඉලක්කම් පිහිටන සංඛ්‍යාව කුමක් ද?

A. 574

B. 475

C. 754

(2) එකස්ථානය 0, සියයස්ථානය 3 සහ දහයස්ථානය 6 වන ලෙස ඉලක්කම් පිහිටන සංඛ්‍යාව කුමක් ද?

A. 360

B. 603

C. 306

(3) දහයස්ථානය 0, එකස්ථානය 0 සහ සියයස්ථානය 7 වන ලෙස ඉලක්කම් පිහිටන සංඛ්‍යාව කුමක් ද?

A. 680

B. 780

C. 700

(4) සියයස්ථානය 9, එකස්ථානය 9 සහ දහයස්ථානය 0 වන ලෙස ඉලක්කම් පිහිටන සංඛ්‍යාව කුමක් ද?

A. 999

B. 990

C. 909

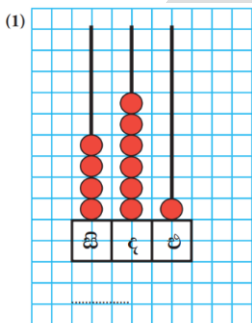
(5) එකස්ථානය 4, සියයස්ථානය 5 සහ දහයස්ථානය 9 වන ලෙස ඉලක්කම් පිහිටන සංඛ්‍යාව කුමක් ද?

A. 594

B. 954

C. 549

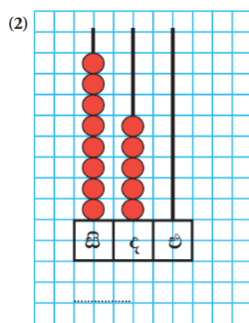
- ගණක රාමුවේ නිරූපිත සංඛ්‍යාව හොයන්න .



A. 416

B. 461

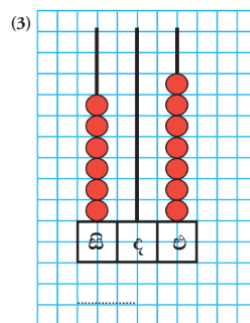
C. 641



A. 850

B. 508

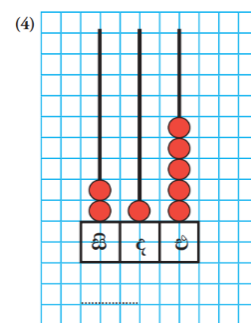
C. 805



A. 706

B. 670

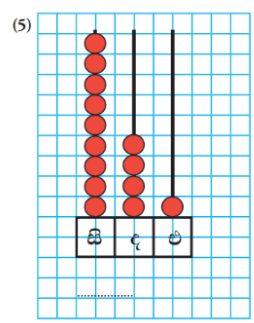
C. 607



A. 314

B. 215

C. 412



A. 962

B. 825

C. 941



# Education Social Media Network

## ගණිතය ඒකක ප්‍රශ්න පත්‍ර - 8 (2023)

### 4 - ශ්‍රේණිය පිළිතුරු

පහත දැක්වෙන සංඛ්‍යාවල සංඛ්‍යා නාමය තෝරන්න

(1) සියයස්ථානය 4, දහයස්ථානය 7 සහ එකස්ථානය 5 වන ලෙස ඉලක්කම් පිහිටන සංඛ්‍යාව කුමක් ද?

A. 574

B. 475

C. 754

(2) එකස්ථානය 0, සියයස්ථානය 3 සහ දහයස්ථානය 6 වන ලෙස ඉලක්කම් පිහිටන සංඛ්‍යාව කුමක් ද?

A. 360

B. 603

C. 306

(3) දහයස්ථානය 0, එකස්ථානය 0 සහ සියයස්ථානය 7 වන ලෙස ඉලක්කම් පිහිටන සංඛ්‍යාව කුමක් ද?

A. 680

B. 780

C. 700

(4) සියයස්ථානය 9, එකස්ථානය 9 සහ දහයස්ථානය 0 වන ලෙස ඉලක්කම් පිහිටන සංඛ්‍යාව කුමක් ද?

A. 999

B. 990

C. 909

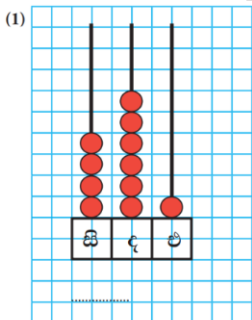
(5) එකස්ථානය 4, සියයස්ථානය 5 සහ දහයස්ථානය 9 වන ලෙස ඉලක්කම් පිහිටන සංඛ්‍යාව කුමක් ද?

A. 594

B. 954

C. 549

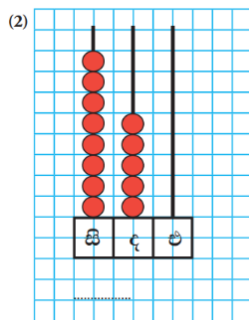
- ගණක රාමුවේ නිරූපිත සංඛ්‍යාව හොයන්න .



A. 416

B. 461

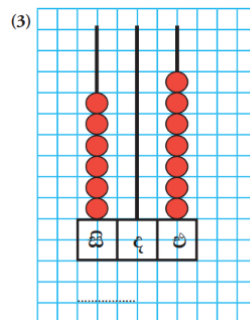
C. 641



A. 850

B. 508

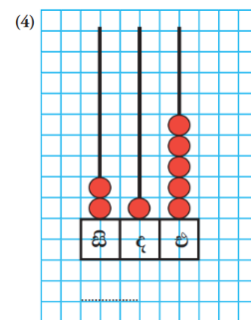
C. 805



A. 706

B. 670

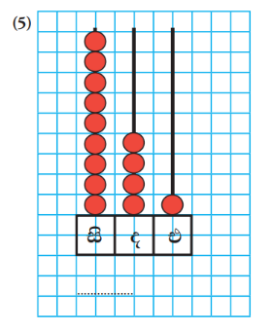
C. 607



A. 314

B. 215

C. 412



A. 962

B. 825

C. 941