



<p>අධ්‍යාපන දෙපාර්තමේන්තුව, බලාපොරොත්තු වන්නේ, විද්‍යා මට්ටම ඉහළ නැංවීමට හා සාමාන්‍ය පාසලකට සිටින ළමයින්, විද්‍යා පාසලකට පත්කිරීමටය.</p>	<p>අධ්‍යාපන දෙපාර්තමේන්තුව, බලාපොරොත්තු වන්නේ, විද්‍යා මට්ටම ඉහළ නැංවීමට හා සාමාන්‍ය පාසලකට සිටින ළමයින්, විද්‍යා පාසලකට පත්කිරීමටය.</p>
<p>Department of Education - Western Province</p>	<p>Department of Education - Western Province</p>
<p>අධ්‍යාපන දෙපාර්තමේන්තුව, බලාපොරොත්තු වන්නේ, විද්‍යා මට්ටම ඉහළ නැංවීමට හා සාමාන්‍ය පාසලකට සිටින ළමයින්, විද්‍යා පාසලකට පත්කිරීමටය.</p>	<p>අධ්‍යාපන දෙපාර්තමේන්තුව, බලාපොරොත්තු වන්නේ, විද්‍යා මට්ටම ඉහළ නැංවීමට හා සාමාන්‍ය පාසලකට සිටින ළමයින්, විද්‍යා පාසලකට පත්කිරීමටය.</p>
<p>Department of Education - Western Province</p>	<p>Department of Education - Western Province</p>
<p>අධ්‍යාපන දෙපාර්තමේන්තුව, බලාපොරොත්තු වන්නේ, විද්‍යා මට්ටම ඉහළ නැංවීමට හා සාමාන්‍ය පාසලකට සිටින ළමයින්, විද්‍යා පාසලකට පත්කිරීමටය.</p>	<p>අධ්‍යාපන දෙපාර්තමේන්තුව, බලාපොරොත්තු වන්නේ, විද්‍යා මට්ටම ඉහළ නැංවීමට හා සාමාන්‍ය පාසලකට සිටින ළමයින්, විද්‍යා පාසලකට පත්කිරීමටය.</p>
<p>Department of Education - Western Province</p>	<p>Department of Education - Western Province</p>

බස්නාහිර පළාත් අධ්‍යාපන දෙපාර්තමේන්තුව
 மேல் மாகாணக் கல்வித் திணைக்களம்
 Department of Education - Western Province

၁။ ဝဏ္ဏံ ဂုဏ်သတ္တံ ဝဏ္ဏသုတေသနဗိမာန် ဝဏ္ဏံ ဂုဏ်သတ္တံ ဝဏ္ဏသုတေသနဗိမာန် ent. of Education - Western Province	၂။ ဝဏ္ဏံ ဂုဏ်သတ္တံ ဝဏ္ဏသုတေသနဗိမာန် ဝဏ္ဏံ ဂုဏ်သတ္တံ ဝဏ္ဏသုတေသနဗိမာန် ent. of Education - Western Province
၃။ ဝဏ္ဏံ ဂုဏ်သတ္တံ ဝဏ္ဏသုတေသနဗိမာန် ဝဏ္ဏံ ဂုဏ်သတ္တံ ဝဏ္ဏသုတေသနဗိမာန် ent. of Education - Western Province	၄။ ဝဏ္ဏံ ဂုဏ်သတ္တံ ဝဏ္ဏသုတေသနဗိမာန် ဝဏ္ဏံ ဂုဏ်သတ္တံ ဝဏ္ဏသုတေသနဗိမာန် ent. of Education - Western Province

වර්ෂ අවසාන ඇගයීම

ஆண்டிறுதி மதிப்பீடு - 2019
Year End Evaluation

தரம் 07

විෂයය பாடம் Subject	විද්‍යාව
---------------------------	----------

பகுதி
வினாத்தாள் } I , II
Paper }

காலம் } பூ. 02 கி.
Time }

නම:-

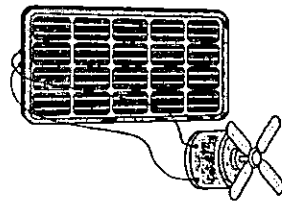
විභාග අංකය:-.....

සැලකිය යුතුයි.

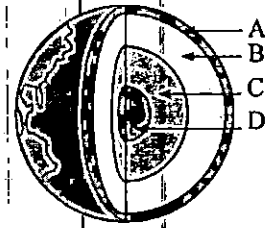
- I කොටසේ ප්‍රශ්න සියල්ලට ම පිළිතුරු සපයන්න.
- II කොටසේ පළමු ප්‍රශ්නය අනිවාර්ය වන අතර එම ප්‍රශ්නය සමඟ තවත් ප්‍රශ්න හතරකට පිළිතුරු සපයන්න.

I කොටස

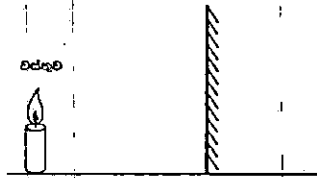
01. වාතයේ වූ ජල වාෂ්ප අවශෝෂණයට සැකසුන මුල් හඳුන්වන්නේ,
 1. වායුධර මුල් ලෙස ය. 2. ආලෝක මුල් ලෙස ය.
 3. වායව මුල් ලෙස ය. 4. කයිරු මුල් ලෙස ය.
 02. පුෂ්පයක පුමාංගයට අයත් කොටසකි.
 1. ඩිම්බ කෝෂ 2. කලංකය 3. සුත්‍රිකාව 4. කීලය
 03. ද්‍රව්‍ය පිරිමැදීමේ දී ස්ථිති විද්‍යුත් ආරෝපණ ඇති වන බව පෙන්වා දෙන ලද්දේ,
 1. වාල්ස් ඩාවින් මහතා ය. 2. විලියම් ගිල්බර්ට් මහතා ය.
 3. ආතර් සී. ක්ලාක් මහතා ය. 4. අර්නස්ට් රදර්ෆඩ් මහතා ය.
 04. ප්‍රත්‍යවර්තක ධාරාවක් ජනනය වන්නේ පහත කුමන උපකරණයෙන් ද?
 1. ඩයිනමෝවෙන් 2. වියළි කෝෂයෙන්
 3. බොක්කම් බැටරියෙන් 4. කාර් බැටරියෙන්
 05. රූපයේ පෙන්වා ඇති ඇටවූමෙහි ක්‍රියාකාරීත්වය සඳහා එයට,
 1. වියළි කෝෂයක් සම්බන්ධ කළ යුතු ය. 2. හිරු එළිය ලැබීමට සැලසිය යුතු ය.
 3. ඩයිනමෝවක් සම්බන්ධ කළ යුතු ය. 4. කාර් බැටරියක් සම්බන්ධ කළ යුතු ය.
 06. වියළි කෝෂයක ධන අග්‍රයට යොදා ඇත්තේ,
 1. කාබන් කුරකි. 2. සින්ක් තහඩුවකි.
 3. කාබන් කුඩු මිශ්‍රණයකි. 4. ජලාස්ථික් ආවරණයකි.
 07. මෙහි දක්වන සැකිල්ල අයත් විය හැකි සත්ත්වයා,
 1. පෘෂ්ඨ වංශිකයෙකි - කුඩැල්ලා 2. අපෘෂ්ඨ වංශිකයෙකි - කුඩැල්ලා
 3. පෘෂ්ඨ වංශිකයෙකි - කිඹුලා 4. අපෘෂ්ඨ වංශිකයෙකි - කිඹුලා
 08. මෙම ජීවියාගේ හැඩය හා වර්ණය නිසා ලැබී ඇති ප්‍රයෝජන වන්නේ,
 1. විලෝපීන්ගෙන් ආරක්ෂාවයි. 2. පරිසරයේ වෙනස් වීම් අනුව නොනැසී සිටීමේ හැකියාවයි.
 3. ගොදුරු සොයා ගැනීමට ඇති හැකියාවයි. 4. ඉහත සියල්ලම වේ.
 09. ශක්තිය මනින ඒකකය,
 1. ජුල් වේ. 2. මීටර වේ. 3. කිලෝග්‍රෑම් වේ. 4. තත්පර වේ.



10. මෙහි A, B, C, D ස්ථර පිළිවෙළින්,
1. ප්‍රාවරණය, පිටත හරය, ඇතුළත හරය, කබොල වේ.
 2. ඇතුළත හරය, පිටත හරය, කබොල, ප්‍රාවරණය වේ.
 3. ප්‍රාවරණය, ඇතුළත හරය, පිටත හරය, කබොල වේ.
 4. කබොල, ප්‍රාවරණය, පිටත හරය, ඇතුළත හරය වේ.



11. මෙම දර්පණයෙන් සෑදෙන ප්‍රතිබිම්බයේ ලක්ෂණයක් නොවන්නේ.
1. අනාත්වික වීමයි.
 2. යටිකුරු වීමයි.
 3. උඩුකුරු වීමයි.
 4. වස්තුවට සමාන වීමයි.



12. අවකල දර්පණ භාවිතා වන අවස්ථාවකි.
1. දත්ත වෛද්‍යවරයෙකුට රෝගියෙකුගෙන් මුඛය තුළ බැලීම.
 2. සුපිරි වෙළෙඳ සැල්වල භාණ්ඩ ප්‍රමාණය වැඩි කර පෙන්වීම.
 3. බාබර් සැලූනවල කොණ්ඩය කැපීමේ දී
 4. වාහනවල පැති කණ්ණාඩිය ලෙස යෙදීම.

13. සංයුක්ත අණවික්ෂයේ උපරිම විශාලත බලය,
1. x 20 කි.
 2. x 200 කි.
 3. x 2000 කි.
 4. x 20000 කි.

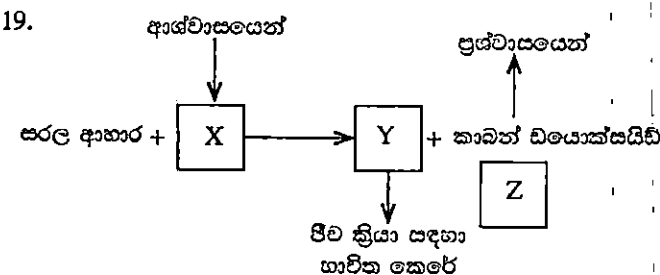
14. සමස්ථ වායුගෝලයේ 75% ක් පමණ වූ වායු ප්‍රමාණයක් අන්තර්ගත වන්නේ,
1. ස්තර ගෝලයේ ය.
 2. පරිවර්ති ගෝලයේ ය.
 3. බහිර් ගෝලයේ ය.
 4. මධ්‍ය ගෝලයේ ය.

15. එක්තරා පස් සාම්පලයක් අඩංගු වූ සංඝටක ප්‍රතිශත පහත දැක්වේ.
- | | | |
|----------|----------|------------|
| මැටි 10% | වැලි 80% | රොන්මඩ 10% |
|----------|----------|------------|
- මෙම ප්‍රතිශතවලට අනුව අදාළ පස වන්නේ,
1. වැලි පසකි.
 2. මැටි පසකි.
 3. ලෝම පසකි.
 4. හොඳින් තෙතකමනය රඳවා පවත්නා පසකි.

16. පහත සඳහන් බලය යෙදෙන අවස්ථා අතරින් ඇඳීමක් සිදු වන අවස්ථාවක් වන්නේ,
1. ගලක් විසි කිරීම
 2. බෝලයකට පහරක් ගැසීම
 3. වාහනයක තිරිංග පැඩලය පැහීම
 4. බිම් තබා තිබූ බැගයක් එසවීම

17. පරිප්පුවල අඩංගු පෝෂක වර්ග අතර බහුලව හමු නොවන පෝෂක වර්ග වන්නේ,
1. ප්‍රෝටීන් ය.
 2. ඛනිජ ය.
 3. ලිපිඩ ය.
 4. කාබෝහයිඩ්‍රේට් ය.

18. පහත සඳහන් ඛනිජ වර්ග සහ අඩංගු ආහාර නිවැරදි ව ගැළපෙන පිළිවෙළ ඇතුළත් පිළිතුර තෝරන්න.
- | | |
|------------|-----------------|
| ඛනිජ වර්ගය | අඩංගු ආහාරය |
| කැල්සියම් | (a) මුහුදු ආහාර |
| යකඩ | (b) ගොටුකොළ |
| අයඩින් | (c) හාල්මැස්සන් |
1. c, b, a
 2. a, b, c
 3. b, c, a
 4. c, a, b



- ජීවීන් ශ්වසනය සිදු කරනුයේ ඇයි ද යන පැනයට පිළිතුරු මෙම සටහන ඇසුරින් දැක්වේ. මෙහි X, Y සහ Z යන ස්ථානවලට ගැළපෙන්නේ පිළිවෙළින්,
1. ඔක්සිජන්, ජල වාෂ්ප හා ශක්තියයි.
 2. ඔක්සිජන්, ශක්තිය හා ජල වාෂ්පයි.
 3. ශක්තිය, ඔක්සිජන් හා ජල වාෂ්පයි.
 4. වාතය, ඔක්සිජන් හා ශක්තියයි.

20. ශිෂ්‍යයෙක් තම පාසල් වත්තේ පහත සඳහන් ස්ථාන හතරෙහි පසේ උෂ්ණත්වය මනින ලදී. ඒ අතරින් අඩු ම උෂ්ණත්වයක් වාර්තා වනු ඇත්තේ කවර ස්ථානයේ වූ පසෙහි ද?
1. ක්‍රීඩා පිටියේ ඇති පසෙහි ය.
 2. එළිමහන් බිමක ඇති පසෙහි ය.
 3. අතු පතර විහිදී ගිය ගසක් යට වූ පසෙහි ය.
 4. දුර පැනීමට තනා ඇති වළේ ඇති වැලි සහිත පසෙහි ය.

(B) පාංශු ජීවීන් නිරීක්ෂණය කිරීමට ඔබ අණවික්ෂයක් යොදා ගන්නට ඇත.

(1) රූපයේ දක්වෙන අණවික්ෂය හඳුන්වන්නේ කෙසේ ද?

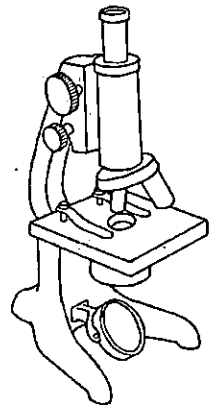
(ලකුණු 1)

(2) එහි උපතෙත හා අවතෙත් කාච එකිනෙක හා සම්බන්ධ කර ඇති කොටස නම් කරන්න.

(ලකුණු 1)

(3) දිගු කලක් අණවික්ෂය භාවිත නොවන අවස්ථාවක දී අනුගමනය කළ යුතු කරුණක් ලියා දක්වන්න.


(ලකුණු 1)



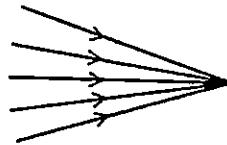
(4) අණවික්ෂය වෙත ආලෝකය යොමු කරන දර්පණයේ තල පෘෂ්ඨයක් හා අවතල පෘෂ්ඨයක් අඩංගු වේ. එයට පතිත වන ආලෝකය වෙන වෙන ම ගත් කල පෘෂ්ඨ දෙකෙන් පරාවර්තනය වන්නේ ආකාර දෙකකට ය.

(i) පහත දක්වෙන ආලෝක කදම්බ ලැබෙන්නේ ඉහත කවර පෘෂ්ඨවලින් ආලෝක පරාවර්තනයෙන් දැයි වෙන වෙන ම දක්වන්න.

(ලකුණු 2)



A



B

(ii) මෙම රූපය ඔබේ පිළිතුරු පත්‍රයේ පිටපත් කරගෙන එහි දක්වෙන ඉංග්‍රීසි අකුරුවල දර්පණ ප්‍රතිබිම්බය ඇඳ දක්වන්න.

(ලකුණු 1)

PT

(05) (A) පෘථිවිය ස්ථර කිහිපයකින් නිර්මාණය වී ඇති බව ඔබ අධ්‍යයනය කර ඇත.

(1) පෘථිවි කබොලේ බහුලවම ඇති මූලද්‍රව්‍ය දෙකක් නම් කරන්න.

(ලකුණු 2)

(2) පෘථිවි ස්ථරවලින් ඉහළම උෂ්ණත්වයක් පවතින්නේ කිනම් ස්ථරයේ ද?

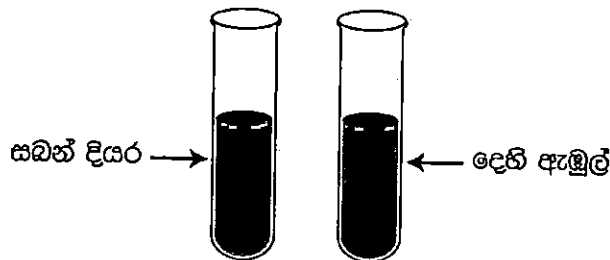
(ලකුණු 1)

(3) පාෂාණ රසායනික ජීරණයට ලක්වීමේ දී අම්ල වැසි ද බලපායි.

(i) විද්‍යාගරයේ දී ඔබට හමු වන ප්‍රබල අම්ලයක් නම් කරන්න.

(ලකුණු 1)

(ii) අම්ල හා හෂ්ම වෙන්කර හඳුනාගැනීමට දර්ශක භාවිත වේ. ස්වාභාවික දර්ශකයක් වන පොකුරු වදමල් යුෂ පහත ද්‍රාවණවලට යෙදූ විට ලැබෙන වර්ණ වෙන වෙන ම ලියන්න. (ලකුණු 2)



(B)

(1) පහත සතූන් දෙබෙදුම් සුවියක් මගින් වෙන් කර දක්වන්න.

(ලකුණු 2)

තිලාපියා, උකුස්සා, ගිරවා

(2) පරිසර අනුවර්තනයක් ලෙස සතූන් තුළ දක්නට ලැබෙන කුමන නමකින් හඳුන්වන්නේ ද?

(ලකුණු 1)



මෙවැනි හැඩයක්

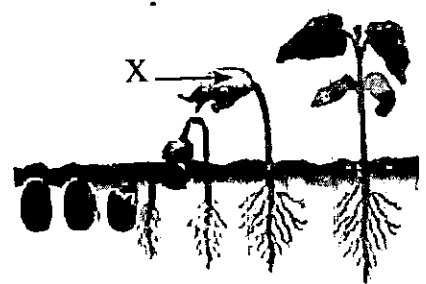
(3) (i) ඉහත හැඩය සහිත දේහ දරණ ජීවියෙකු නම් කරන්න.

(ලකුණු 1)

(ii) එම හැඩය කිබීම ඔබ නම් කල ජීවියාට වැදගත් වන්නේ කෙසේ ද?

(ලකුණු 1)

(06) (A) රූපයේ දැක්වෙන්නේ එක්තරා බීජයක ප්‍රරෝහණය සිදු වූ ආකාරයකි.




- (1) මෙම ප්‍රරෝහණ ක්‍රමය සහිත බීජ කවර නමකින් හැඳින්වේ ද? (ලකුණු 1)
- (2) රූපයේ X ලෙස නම් කර ඇත්තේ කවරක් ද? (ලකුණු 1)
- (3) මෙම ප්‍රරෝහණ ක්‍රමය සහිත ශාක දෙකකට උදාහරණ දෙන්න. (ලකුණු 1)
- (4) බීජවල ගබඩා වී ඇති ආහාරයේ අඩංගු ශක්ති ප්‍රභේදය කුමක් ද? (ලකුණු 1)

- (B) "තාපය" ආහාර පිසීම ඇතුළු කාර්යයන් රැසකට දායක වන ශක්ති ප්‍රභේදයකි.
- (1) ආහාර පිසීම හැරුණු විට තාපය යොදා ගැනෙන තවත් අවස්ථාවක් නම් කරන්න. (ලකුණු 1)
 - (2) ද්‍රව්‍යයක "තාපාංකය" යනුවෙන් හැඳින්වෙන්නේ කවරක් ද? (ලකුණු 1)
 - (3) වායු ගෝලය තුළ ද "තාප ගෝලය" නමින් ස්තරයක් හමුවේ.
 - (i) තාප ගෝලය තුළ උෂ්ණත්වය වැඩිවීමට හේතුව කුමක් ද? (ලකුණු 1)
 - (ii) තාප ගෝලය සම්බන්ධයෙන් වැදගත් වන කරුණක් ලියා දක්වන්න. (ලකුණු 2)
 - (4) තාප විදුලි බලාගාරයක් ආශ්‍රිතව සිදුවන ශක්ති පරිණාමනය ලියා දක්වන්න. (ලකුණු 2)

- (07) (A) විද්‍යාගාරයේ හමු වන දර්ශක අතර ලිට්මස්, pH කඩදාසි ඉතා වැදගත් වේ.
- (1) ලිට්මස් කඩදාසි හා pH කඩදාසි අතරින් වර්ණ පරාසක් ලබාගත හැක්කේ කවරකින් ද? (ලකුණු 1)
 - (2) මෙම දර්ශක දෙක හැරුණු විට විද්‍යාගාරයේ දී හමුවන වෙනත් දර්ශක දෙකක් නම් කරන්න. (ලකුණු 2)
 - (3) අම්ල ලිට්මස් හමුවේ රතු පැහැයක් ලබා දේ. එසේ ම පාෂාණ රසායනික ජීර්ණය විමට අම්ල බලපායි.
 - (i) පාෂාණ රසායනික ලෙස ජීර්ණය විමට අම්ල බලපාන අවස්ථාවක් ලියා දක්වන්න. (ලකුණු 1)
 - (ii) පාෂාණ චක්‍රය තුළ හමුවන මැග්මා සිසිල් වීමෙන් නැනෙන පාෂාණ වර්ගය කුමක් ද? (ලකුණු 1)

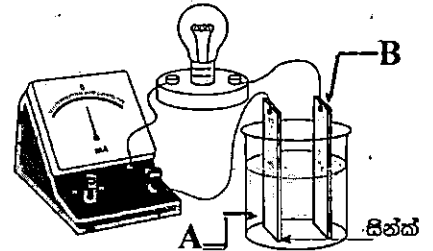
- (B) පහත රූපයේ දැක්වෙන්නේ පාංශු පැතිකඩකි.
- (1) පාංශු පැතිකඩක් යනු කුමක් ද? (ලකුණු 1)
 - (2) මෙහි දැක්වෙන A හා C ස්තරවල ඇති වැදගත්කමක් බැගින් ලියන්න. (ලකුණු 1)
 - (3) මෙහි A ස්තරය ජීවී ක්‍රියාකාරකම්වල බලපෑමට තදින් ලක්වේ. එවැනි බලපෑම් හමුවේ එම ස්තරයට, බරපතල හානිකර තත්ත්වයක් නම් කරන්න. (ලකුණු 1)
 - (i) මෙම ස්තරය සිදුවන එවැනි බරපතල හානිකර තත්ත්වයක් නම් කරන්න. (ලකුණු 1)
 - (ii) මෙම ස්තරය ආශ්‍රිතව ශාක සතු කුමන පද්ධතියක් බහුලව හමුවේ ද? (ලකුණු 1)
 - (iii) මෙහි (ii) හි නම් කල පද්ධතිය තුළ හමුවන වැදගත් පටකයක් නම් කරන්න. (ලකුණු 1)



● පළමු ප්‍රශ්නය ඇතුළුව ප්‍රශ්න පහකට පිළිතුරු සපයන්න.


(01) (A) එදිනෙදා සිදු කෙරෙන කාර්යයන් රැසක් සඳහා විවිධ ශක්ති ප්‍රභව භාවිත වේ. එම ශක්ති ප්‍රභව පුනර්ජනනීය හා පුනර්ජනනීය නොවන ලෙස කාණ්ඩ දෙකකට බෙදිය හැක.

- (1) ශක්ති ප්‍රභව ඉහත දැක් වූ ආකාරයට කාණ්ඩ දෙකකට බෙදනු ලබන්නේ කවර කරුණක් පදනම් කරගෙන ද? (ලකුණු 1)
- (2) දර, ග්‍රාමීය නිවෙස්වල බහුලව භාවිතා වන ශක්ති ප්‍රභවයකි.
 - (i) දර ඉහත සඳහන් කවර ශක්ති ප්‍රභව කාණ්ඩයට අයත් වේ ද? (ලකුණු 1)
 - (ii) ඔබට විවිධ ශාකවලින් ලබාගත් දර වර්ග කිහිපයක්, සුදුසු බඳුන්, ජලය, උෂ්ණත්වමානයක් හා විරාම සටහනක් සපයා ඇතැයි සිතන්න. මෙම ද්‍රව්‍ය භාවිතා කර වැඩි කාපයක් නිකුත් කරන දර වර්ගය සොයා ගන්නා අයුරු පියවර 3කින් ලියා දක්වන්න. (ලකුණු 3)
- (3) එදිනෙදා භාවිතා වන ශක්තීන් අතර විද්‍යුත් ශක්තිය ප්‍රධාන තැනක් ගනී. පහත දැක්වෙන්නේ සරල කෝෂයක් සම්බන්ධ ක්‍රියාකාරකමකි.
 - (i) එහි දක්වා ඇති A ද්‍රව්‍ය සහ B ලෝහය නම් කරන්න. (ලකුණු 2)
 - (ii) මෙහි දී ලැබෙන නිරීක්ෂණ අතරින් දෙකක් ලියන්න. (ලකුණු 2)



- (B) පාරිච්ඡේද පවතින මව් පාෂාණ විවිධ හේතු මත වෙනස් වෙමින් කැබලි බවට පත් වීම "පාෂාණ ජීරණය" නම් වේ.
- (1) පාෂාණ ජීරණය, භෞතික හා රසායනික ක්‍රම මගින් සිදු වේ. එම ක්‍රම දෙකකට අමතරව පාෂාණ ජීරණය විය හැකි තවත් ආකාරයක් නම් කරන්න. (ලකුණු 1)
 - (2) විදුරු බෝලයක් තදින් රත් කිරීමෙන් පසුව එය ජල බඳුනකට දමන ලදී. නැවත එය ජලයෙන් පිටතට ගෙන නිරීක්ෂණය කළ විට එය ඉරිතලා ඇති අයුරු දිස් විය. මෙම ක්‍රියාකාරකම මගින් කවර පාෂාණ ජීරණ ක්‍රමයක් ආදර්ශනය කරයි ද? (ලකුණු 1)
 - (3) ඛනිජයක් හා පාෂාණයක් බාහිර නිරීක්ෂණයෙන් වෙන්කර ගත හැකි ලක්ෂණයක් ලියන්න. (ලකුණු 1)

(C)



රූපයේ දැක්වෙන්නේ 400m ධාවන පථයකි.

- (1) මෙම ධාවන පථයේ 800m ධාවන ඉසව්වට සහභාගී වන ක්‍රීඩකයෙක් සම්බන්ධයෙන් සැලකූ විට,
 - (i) එම ක්‍රීඩකයා ගෙවා යන මුළු දුර කොපමණ ද? (ලකුණු 1)
 - (ii) එම ක්‍රීඩකයාගේ විස්ථාපනය කොපමණ ද? (ලකුණු 1)
 - (iii) දුර හා විස්ථාපනය අතර පවත්නා ප්‍රධාන වෙනස්කම කුමක් ද? (ලකුණු 1)
- (2) ක්‍රීඩකයින් ක්ෂණිකව ශක්තිය ලබා ගැනීම සඳහා භාවිතා කරන ග්ලූකෝස් අයත් පෝෂක කාණ්ඩය කුමක් ද? (ලකුණු 1)

(02) (A) ශාකවල පවතින විවිධ කොටස්, විවිධ වූ කාර්යයන් ඉටු කිරීම සඳහා හැඩ ගැසී ඇත.

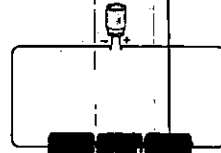
- (1)
 - (i) මුල් මගින් වර්ධක ප්‍රජනනය ඉටු කරන ශාකයක් නම් කරන්න. (ලකුණු 1)
 - (ii) ජාලාභ නාරටි වින්‍යාසයක් දරන පත්‍ර සහිත ශාකයක් නම් කරන්න. (ලකුණු 1)
 - (iii) ප්‍රභාසංශ්ලේෂණය සඳහා හැඩ ගැසුන කදන් සහිත ශාකයක් නම් කරන්න. (ලකුණු 1)
- (2) ශාකවල පැවැත්මට ජලය වැදගත් සාධකයකි. එදිනෙදා ජීවිතයේ දී ජලයේ ගුණ විවිධ ආකාරයෙන් ප්‍රයෝජනයට ගනු ලැබේ. එසේ ම ජීවී දේහ තුළ සිදු වන ජීව ක්‍රියා සඳහා ජලය මාධ්‍යයක් වේ.
 - (i) ජලය මාධ්‍යයක් ලෙස භාවිත වන ජීව ක්‍රියාවලියක් නම් කරන්න. (ලකුණු 1)
 - (ii) ජලයේ සිසිලනකාරක ගුණය සහ ද්‍රාවක ගුණය එදිනෙදා භාවිතයට ගන්නා අවස්ථාවක් බැගින් ලියා දක්වන්න. (ලකුණු 2)

(B)

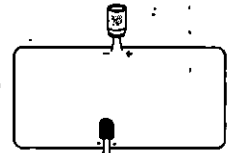
(1) ස්ථිති විද්‍යුත් ආරෝපණ හා සංසිද්ධි එදිනෙදා ජීවිතයේ දී ඔබ අත් දක ඇත.

(i) එවැනි ස්වාභාවික සංසිද්ධියක් නම් කරන්න. (ලකුණු 1)

(ii) මෙහි දක්වන පරිපථවලින් ස්ථිති විද්‍යුත් ආරෝපණ ගබඩා කිරීම සිදුවන පරිපථය හා විසර්ජන සිදුවන පරිපථය කුමක් දැයි වෙන වෙන ම සඳහන් කරන්න. (ලකුණු 2)



(a)




(b)

(2) අපගේ එදිනෙදා කාර්යය පහසු කරන විවිධ ශක්ති ප්‍රභේද රැසක් පවතී.

(i) තාප විදුලි බලාගාරයක දී ටර්බයින්ය කැරකැවීමට යොදා ගන්නේ කුමන ද්‍රව්‍යයක් සතු කවර ශක්තිය ද? (ලකුණු $1/2 \times 2 = 1$)

(ii) සුළඟ සතු වාලක ශක්තිය භාවිතයට ගන්නා අවස්ථාවක් ලියන්න. (ලකුණු 1)

(03) (A)



(1) මෙහි දක්වන ඇටවුම කුමන සිදුවීමක් ආදර්ශනය සඳහා සකසන ලද්දක් ද? (ලකුණු 1)

(2) මෙම ඇටවුමෙන් කෙරෙන කාර්යය වඩා සාර්ථක කරගැනීමට තිබිය යුතු අවශ්‍යතා දෙකක් ලියා දක්වන්න. (ලකුණු 2)

(3) ඉහත ක්‍රියාකාරකම සඳහා සිරුරේ කවර ව්‍යුහයක් අනිවාර්යයෙන් යොදා ගත යුතු ද? (ලකුණු 1)

(4) ඔබ 3හි නම් කළ ව්‍යුහය ජීව දේහ සංවිධාන මට්ටම් අතරින් කවරකට අයත් ද? (ලකුණු 1)

(B)



(1) ඉහත රූපයේ දක්වන්නේ වෛද්‍ය උෂ්ණත්වමානයකි.

(i) වෙනත් උෂ්ණත්වමාන අතරින් මෙම උෂ්ණත්වමානය වෙන් කර හඳුනා ගැනීමට ඇති විශේෂ ලක්ෂණයක් සඳහන් කරන්න. (ලකුණු 1)

(ii) "වෛද්‍ය උෂ්ණත්වමාන උණු ජලයෙන් සේදීම නුසුදුසු වේ." ඔබ මෙම කියමනට එකඟ වේද? නොවේද? හේතු දක්වන්න. (ලකුණු 2)

(2) දහවල තහඩු මඩුවක් යට සිටින විට වැඩි උණුසුමක් දැනෙන්නේ කවර තාප සංක්‍රාමණ ක්‍රමයක් නිසා ද? (ලකුණු 1)

(3) ආහාරවල අඩංගු පෝෂක හඳුනාගැනීමට පරීක්ෂණ කිහිපයක් සිදු කරන ලදී.

(i) එහි දී රත්කිරීමක් සිදු කළ යුත්තේ කවර පෝෂකය හඳුනාගැනීමේ දී ද? (ලකුණු 1)

(ii) රෝස දම් පැහැයක් නිරීක්ෂණය කිරීමට ලැබුණේ කවර පෝෂකය හඳුනාගැනීමේ දී ද? (ලකුණු 1)

(04) (A) සාමාන්‍යයෙන් පසෙහි අඩංගු ඝන සංඝටක ලෙසින් රොන් මඩ, වැලි මැටි වැනි දෑ දක්විය හැක.

(1) ඉහත සඳහන් වූ ඝන සංඝටක හඳුන්වන පොදු නම කුමක් ද? (ලකුණු 1)

(2) ඉහත 1 හි ඔබ නම් කළ ඝන සංඝටක වර්ගය හැරුණු විට පසෙහි අඩංගු තවත් ඝන සංඝට වර්ගයක් නම් කරන්න. (ලකුණු 1)

(3) පසෙහි අඩංගු තවත් වැදගත් සංඝටකයකි පාංශු වාතය

(i) පාංශු වාතයේ කාර්යයක් සඳහන් කරන්න. (ලකුණු 1)

(ii) පසෙහි පාංශු වාතය අඩංගු බව පෙන්වීමට සරල පරීක්ෂණයක් යෝජනා කරන්න. (ලකුණු 2)