

# නිකවැරවිය අධ්‍යාපන කලාපය

පෙරහුරු ප්‍රශ්න පත්‍රය - 2023

5 ශ්‍රේණිය

## II පත්‍රය

පැය 01 සි මිනිත්තු 15 සි

විභාග අංකය : .....

විභාගයට පෙනී සිටින ඔබ සඳහා උපදෙස්

- ❖ ඔබේ විභාග අංකය ඉහත කොටුව තුළ ඇති තිත් ඉර මත ද, තුන්වැනි පිටුවේ ඇති නියමිත ස්ථානයේ ද ලියන්න.
- ❖ මෙම ප්‍රශ්න පත්‍රයේ ප්‍රශ්න 60 ක් ඇත.  
ප්‍රශ්න සියල්ලට ම පිළිතුරු මෙම පත්‍රයේ ම සපයන්න.
- ❖ පිළිතුරු තුනක් ඇති ප්‍රශ්නවල නිවැරදි පිළිතුර තෝරා යටින් ඉරක් අඳින්න.
- ❖ පිළිතුරු ලියන්නට ඇති ප්‍රශ්නවල පිළිතුරු තිත් ඉර මත ලියන්න.
- ❖ කටුවැඩ කිරීම සඳහා කඩදාසියක් සපයනු ලැබේ.

පිටු අංකය	ලැබූ ලකුණු
02	
03	
04	
05	
06	
07	
08	
එකතුව	

අවසාන ලකුණු

ඉලක්කමෙන්	
අකුරෙන්	

අත්සන සංකේත අංකය

උත්තර පත්‍ර පරීක්ෂක		
ලකුණු පරීක්ෂක		
ගණිත පරීක්ෂක		
අධීක්ෂක		

(01) පහත දැක්වෙන ඡේදය බියවන්න.

අතීතයේ අප රට වැසියෝ මඟුල් ගෙවල්වල රබන් වයා විනෝද වූහ. සිංහල අවුරුදු කාලයට රබන් වයමින් නැවූහ. අතීතයේ ආගමික උත්සවවල දී ද රබන් වැසූ බව අප අසා තිබේ. මේ සඳහා භාවිත කරන ලද්දේ මහ රබාන හෙවත් බංකු රබාන යි. රබාන 'එකැස්' බෙරය නමින් ද හඳුන්වා තිබේ.

● **වේදය ඇසුරෙන් පිළිතුරු සපයන්න.**

1. මඟුල් ගෙවල්වල රබන් වයා විනෝද වූයේ කවුරුන් ද?.....
2. රබන් වැසුම සඳහා භාවිත කරන ලද්දේ කුමන රබාන ද? .....
3. ජේදයේ යෙදී ඇති අනුක්ත පදය කුමක් ද? .....
4. "එකැස්" බෙරය නමින් හඳුන්වන්නේ කුමක් ද?.....
5. ඉහත ජේදයේ ඇති අතීත කාල බහුවචන ක්‍රියා පදයක් තෝරා ලියන්න. ....
6. 'රට වැසියෝ මඟුල් ගෙවල්වල රබන් වයා විනෝද වූහ.' යන වැකිය වර්තමාන කාලයෙන් ලියන්න.

(02) පහත සඳහන් එක් එක් වගන්තියෙහි උක්ත ආබාහන සම්බන්ධය නිවැරදි නම් " ✓ " ලකුණ ද වැරදි නම් " ✗ " ලකුණ ද ඉදිරියේ ඇති වරහන තුළ යොදන්න.

1. කුරුල්ලෝ කෑම සොයා පියණා යති. (        )
2. එළඳෙන උම්බෑ කියමින් කෑ ගැසුවේ ය. (        )
3. වෛද්‍යවරයා රෝගීන් පරීක්ෂා කරති. (        )
4. ඔවුහු නිතරම ගුවන් විදුලියට සවන් දෙති. (        )
5. සමස්ත ලංකා ගායනා තරගයට ඔහු මිනිරි ගියේ ගැසුවා ය. (        )

(03) ඒකවචන අතිත කාල ස්ත්‍රී ලිංග ක්‍රියා පදය තෝරා යටින් ඉරක් අඳින්න.

1. කැමැති ය.                      2. හිසා ය.                      3. මැසුන.

(04) දී ඇති වචන ගලපා අර්ථවත් වාක්‍යයක් ලියන්න.

පාගමින් / වෙරළේ / ඔබ / රළ / ළමයි / දුවනි / මොබ

(05) පහත එක් එක් ප්‍රශ්නයෙහි නිවැරදි අක්ෂර සහිත වචනය තෝරා යටින් ඉරක් අඳින්න.

- |      |              |              |              |
|------|--------------|--------------|--------------|
| (i)  | 1. කළමනාකරනය | 2. කළමනාකරනය | 3. කළමනාකරණය |
| (ii) | 1. සෙවනැල්ල  | 2. සෙවනැල්ල  | 3. සෙවනැල්ල  |

(06) පහත සඳහන් වාක්‍ය අතීත කාලයට හරවා ලියන්න.

වෛද්‍යවරිය උදෑසන ම රෝගීන් පරීක්ෂා කරයි.

(07) i. "ප්‍රවාන්තිය" යන්නට සමානාර්ථ පදයක් ලියන්න. ....

ii. ගැලපෙන විරාම ලකුණු යොදන්න.

හරි අපුරු කතාවක්, නේ මට කියවුණේ ඉබේටම ය

(08) පහත සඳහන් අවස්ථාවට ගැලපෙන ඉගි වැකිය තිත් ඉර මත ලියන්න.

රවටනු පිණිස අනවශ්‍ය ලෙස වර්ණනා කිරීම.


(09) සිහිනයක ජීවත් වූ පුංචි දූරියක් සිටියා ය. ඇයගේ අම්මා , තාත්තා , ආත්තම්මා , ලොකු අම්මා වගේ පවුලේ ම අය ඒ සිහිනවල ජීවත් වූහ.

දී ඇති පිල්ලමට අදාළ වචන ඡේදයෙන් සොයා වගුව සම්පූර්ණ කරන්න.

දික් පාපිල්ල	දීර්ඝ ඉස්පිල්ල	කෙටි ඇදපිල්ල	කොමිටුව සහිත හල් කිරීමේ ලකුණ
.....	.....	.....	.....


(10) එක් එක් රූපයට ගැලපෙන ඉංග්‍රීසි වචනය දී ඇති කොටුව තුළ ඉංග්‍රීසි අකුරෙන් ම ලියන්න.

i.



--	--	--	--	--	--	--	--	--	--

ii.



--	--	--	--	--	--	--	--	--	--

(11) පහත දී ඇති වචන නිවැරදි ව ගළපා අර්ථවත් වැකියක් බැගින් ලියන්න.

1. are / old / How / you

2. to / help / cut / I / vegetables / you

(12) එක් එක් ඉංග්‍රීසි වචනයෙහි අර්ථය සිංහලෙන් ලියන්න.

i. hoppers - ..... ii. Fruits - .....

(13) "නණ්ඩන්" යන දෙමළ වචනය සඳහා යෙදෙන සිංහල වචනය ලියන්න. ....

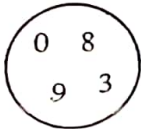
(14) පහත සඳහන් වාක්‍යය දෙමළෙන් කියන ආකාරය සිංහලෙන් ලියන්න.

ඔබේ පන්තිය කුමක් ද? - .....

(15) 9032 සහ 4013 යන සංඛ්‍යා දෙක අතර වෙනසෙහි අගය අකුරෙන් ලියන්න.

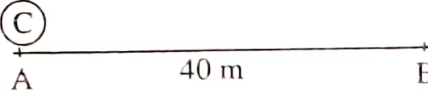
.....

(16) රවුම තුළ ඇති ඉලක්කම්වලින් සෑදිය හැකි විශාල ම සංඛ්‍යාවේ සියයස්ථානයේ ඇති ඉලක්කමෙන් නිරූපිත අගය ලියන්න. ....



(17) පහත සංඛ්‍යාව විහිදුවා ලියන්න.

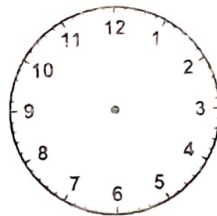
7 5 0 9 - .....

(18)  (C) A 40 m B

මෙම රූපයේ C යනු රෝදයකි. එහි වට ප්‍රමාණයෙන් හරි අඩක් 40 cm කි. මෙම රෝදය A සිට B දක්වා ගෙන යාමට වට කීයක් කරැතැවිය යුතු ද? .....

(19) පහත දැක්වෙන පැය විසිහතරේ ඔරලෝසු මුහුණතෙහි ඇති වේලාව දී ඇති සාමාන්‍ය ඔරලෝසු මුහුණතෙහි දැක්වන්න.

1 6 : 4 5



(20) එක පෙට්ටියක බිත්තර 375 බැගින් පෙට්ටි 4 ක ඇති බිත්තර ගණන සොයන්න. ....

(21) දී ඇති සංඛ්‍යා රටාවේ ඊළඟට ආ යුතු සංඛ්‍යා ලියන්න.

53 , 61, 69, 77, ..... , .....

(22) ශාලාවක පුටු 409 ක් ඇත. ආරාධිතයින් 740 ක් පැමිණීමට නියමිත නම් ශාලාවේ තව කොපමණ පුටු ප්‍රමාණයක් තැබිය යුතු ද? .....


(23) දොඩම් බීම 1l 500 ml ක් එක සමාන විදුරු හතරකට පුරවන ලදී. එවිට තව 100 ml ක් බෝතලයේ ඉතුරු විය. එක විදුරුවක ඇල්ලු බීම ප්‍රමාණය කොපමණ ද? .....



- (24) පහත කොටු ජාලයේ එක් කුඩා කොටුවක දිග හා පළල 1cm කි. එහි 3cm පළල 5cm දිග සෘජුකෝණස්‍රයක් ඇඳ දක්වන්න.



- (25) පහත රූපයේ  $\frac{3}{4}$  ක් අඳුරු කිරීමට අවශ්‍ය ඉතුරු ප්‍රමාණය එහි අඳුරු කර පෙන්වන්න.



- (26) එකක් රුපියල් 68 බැගින් පොත් දෙකක් ද, රුපියල් 48.50 කට පැන්සල් දෙකක් ද, රැගෙන රුපියල් සියයේ තෝට්ටු දෙකක් දුන් විට ලැබෙන ඉතුරු මුදල කොපමණ ද?

රු. ....සහ .....

- (27) පුස්තකාලයක තිබූ ළමා කතා , කෙටි කතා හා නව කතා පොත් ප්‍රමාණය පහත දැක්වේ.

ළමා කතා	කෙටි කතා	නව කතා
4035	3442	2129

i. නව කතා පොත්වලට වඩා ඇති කෙටි කතා පොත් ප්‍රමාණය කොපමණ ද? .....

ii. පුස්තකාලයේ ඇති ළමා කතා , කෙටි කතා හා නව කතා පොත්වල එකතුව කොපමණ ද?

.....

- (28) කොළඹ සිට මහනුවර බලා යන දුම්රියක් පොල්ගහවෙලට ළඟා වීමට තිබුණේ ප.ව.4.40 ට ය. එය නියමිත වේලාවට වඩා පැය 1 මිනිත්තු 35 ක් ප්‍රමාද වී පැමිණියේ නම් දුම්රිය පැමිණි වේලාව කීය ද?

.....

- (29) එක මල්ලක සිනි 3 kg 100 g ක් ද, තව මල්ලක සිනි 6 kg 950 g ක් ද, ඇත. මලු දෙකේ ම ඇති සිනිවල මුළු බර කොපමණ ද?

.....

❖ අංක 30 සිට 59 තෙක් එක් එක් ප්‍රශ්නයට සුදුසු පිළිතුර දී ඇති පිළිතුරු අතුරෙන් කෝරා යටින් ඉරක් අඳින්න.

- (30) විටමින් C බහුල ආහාරයකට උදාහරණයකි,


1. කෙසෙල්                      2. ලාවුලු                      3. තෙල්ලි

(31) පහත දැක්වෙන්නේ සුළඟ මගින් ව්‍යාප්ත වන බීජ වර්ග කීපයකි. ඒ අතරින් තොර බීජය වන්නේ,

1.



2.



3.



(32) පෘෂ්ඨයකට ඇලී සිටීම සඳහා විශේෂ පාද පිහිටා ඇති සත්ත්වයෙකි,

1. හූනා

2. මකුළුවා

3. කැරපොත්තා

(33) පාසල් සිසුවකු ලෙස ඔබ යහපත් සෞඛ්‍යයක් පවත්වා ගැනීම සඳහා දිනකට ජලය ලීටර ,

1. 1 - 1 1/2 දක්වා පානය කළ යුතු ය.

2. 1 1/2 - 2 දක්වා පානය කළ යුතු ය.

3. 3 - 3 1/2 දක්වා පානය කළ යුතු ය.

(34) ජල විදුලි බලයේ පියා ලෙස අපි හඳුන්වන්නේ,

1. ආතර් සී ක්ලාක් මහතා ය.

2. ආතර් වී දියෙස් මහතා ය.

3. ඩී.ජේ. විමල සුරේන්ද්‍ර මහතා ය.

(35) පහත තරුව හෙවත් ඉර බට තරුව ලෙස අප හඳුන්වන්නේ,

1. සිකුරු ග්‍රහයා

2. බුධ ග්‍රහයා

3. බ්‍රහස්පති ග්‍රහයා

(36) "නවදූලි" හේන යනු,

1. නව අස්වැන්න නෙළා ගත් හේනයි.

2. අලුතින් ගිනි තබා ආරම්භ කළ හේනයි.

3. අලුතින් වගා කළ හේනයි.

(37) කප්පාදු නොකළ යුතු වැල් වර්ගයකි,

1. මිදි

2. බුලත්

3. පතෝල

(38) බීමට ගන්නා ජලය සිසිල්ව තබා ගැනීමට ස්වභාවික අමුද්‍රව්‍ය යොදා සාදාගත හැකි උපකරණයකි,

1. සිතකරණය

2. ගුරු ලේන්කුව

3. ප්ලාස්ටික් බෝතලය

(39) "අගුරු හුනු කැට ගෙන - විහිළු නොලියනු තැන තැන" යන කවිය,

1. බාලෝපදේශයේ කවියකි.

2. සිරිත් මල්දමේ කවියකි.

3. ලෝවැඩ සඟරාවේ කවියකි.

(40) ළමා උපකාරක දුරකථන සේවාවට ඇමතුමක් ලබා දීමට ඇමතිය යුතු අංකය වන්නේ,

1. 1929

2. 1920

3. 1990

(41) නව රාත්‍රී දේව පූජාව පවත්වන ආගමික ස්ථානය වන්නේ,

1. මස්ජිදය

2. ක්‍රිස්තියානි පල්ලිය




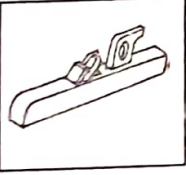


3. කෝවිල

(42) අතීතයේ ගෙබිම පිරිසිදු කිරීමට යොදා ගත් උපකරණයකි,

1. කොස්ස

2. ඉදල

3. ඉලපත

- (43) යම් අයෙකු දිගේ ගිලෙනවා දුටුවොත් ඔබ කළ යුත්තේ ,
1. ඔහු බේරා ගැනීමට දියට පැනීම.
  2. උදවු ඉල්ලා කෑ ගැසීම.
  3. කවුරු හෝ එතතුරු බලා සිටීම.
- (44) පරිභෝජනයට සුදුසු සීනි අඩු ප්‍රමාණයක් ඇති බීම බෝතලයක් ගත්තේ නම් ඔබ ගත යුත්තේ ,
1. රතු වර්ණය සහිත රවුමක් ඇති බෝතලයක් ය.
  2. කොළ වර්ණය සහිත රවුමක් ඇති බෝතලයක් ය.
  3. කහ වර්ණය සහිත රවුමක් ඇති බෝතලයක් ය.
- (45) කාශ්‍ය ප්‍රජා නිර්මාණයක් වන සිගිරිය පිහිටා ඇත්තේ ,
1. මාතලේ දිස්ත්‍රික්කයේ ය.
  2. මහනුවර දිස්ත්‍රික්කයේ ය.
  3. අනුරාධපුර දිස්ත්‍රික්කයේ ය.
- (46) ශ්‍රී ලංකාවේ නිදහස් අධ්‍යාපනය වෙනුවෙන් අතිමහත් සේවාවක් කළ නායකයෙකි,
1. 
  2. 
  3. 
- (47) "බට්ටා පැනීමේ " ක්‍රීඩාවේ කොටු සැලැස්මේ ඇති කොටු ගණන ,
1. 7 කි.
  2. 8 කි.
  3. 10 කි.
- (48) පහත දැක්වෙන උපකරණ අතරින් දඩු අඩුව තෝරන්න.
1. 
  2. 
  3. 
- (49) බැංකුවෙන් ඉටුකර ගත නොහැකි කාර්යයකි,
1. චෙක්පත් මාරු කිරීම.
  2. මුදල් ඇණවුමක් මාරු කිරීම.
  3. ඉතිරි කිරීමේ ගිණුමක් ආරම්භ කිරීම.
- (50) අපේ රටේ පිහිටි ස්වභාවික වරායකි,
1. කොළඹ වරාය
  2. හම්බන්තොට වරාය
  3. ත්‍රිකුණාමල වරාය
- (51) නිවෙස්වල ඉතුරු වූ බත් වියළා කබලේ බැඳ කොටා සකස්කර ගන්නා රසවත් කැවිලි වර්ගයකි,
1. අග්ගළා
  2. වැලිතලප
  3. අලුවා
- (52) අස්ථි හා දත් දුර්වලවීමට බලපාන ප්‍රධාන හේතුවකි,
1. විටමින් උග්‍රතාව
  2. කැල්සියම් උග්‍රතාව
  3. මේද උග්‍රතාව
- (53) ශ්‍රී ලංකාවේ ඒකදේශික උරගයෙකි,
1. යක් කටුස්සා
  2. මල්පුලුවා
  3. බුලත්හපයා



- (54) ජාතික හැඳුනුම්පතක් නැති වූ විටක අප පළවුවෙන් ම එය දැනුම් දිය යුත්තේ ,
1. ප්‍රාදේශීය ලේකම් කාර්යාලයට
  2. කැපැල් කාර්යාලයට
  3. පොලීසියට

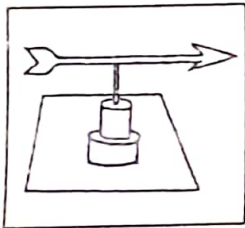
- (55) උෞච්ච වෙල්ලක්ස කැරැල්ල මර්දනය කිරීම පිණිස ඉංග්‍රීසීන් විසින් යවන ලද්දේ ,
1. මොනරවිල කැප්පෙට්පොළ දිසාව ය.
  2. මොල්ලිගොඩ දිසාව ය.
  3. ඇහැලේපොළ දිසාව ය.

- (56) " බිත්තර බීජ " ලෙස ගොවියන් හඳුන්වනු ලබන්නේ ,
1. ආහාරය සඳහා සකස්කළ බීජයි.
  2. වගාවෙන් ලබාගත් අලුත් බීජයි.
  3. පැළ කිරීමට යොදා ගන්නා බීජයි.

- (57) සකපෝරුව යනු .
1. කුඹල් කර්මාන්තය සඳහා යොදා ගන්නා උපකරණයකි.
  2. පතල් කර්මාන්තය සඳහා යොදා ගන්නා උපකරණයකි.
  3. වඩු කර්මාන්තය සඳහා යොදා ගන්නා උපකරණයකි.

- (58) "සඳ මඬලේ සිට තරු මඬලේ සිට දිවැස් හෙළන පුතුනේ" යන ගීතය ගායනා කරන්නේ ,
1. නන්දා මාලනි මහත්මියයි.
  2. ඉන්ද්‍රාණි සේනාරත්න මහත්මියයි.
  3. මාලනි බුලත්සිංහල මහත්මියයි.

- (59) පහත රූපයේ දැක්වෙන්නේ ,



1. සුළං දිශා දර්ශකයකි.
2. අනිලමානයකි.
3. සුළං පෙන්නකි.

- (60) කැලේ මැදින් පැමිණි මුවෙකුට වතුර පිපාසයක් දැනුණි. උෞ වටපිටාව පිළිබඳ දැඩිව විමසිලිමත් ව බලමින් දිය බීමට ගත අසලට පැමිණෙන විට ඇතිත් මහා හඬක් ඇසුණි. ඉන් පසු සිදුවූවා යැයි ඔබට සිතෙන දේ වැඩි තුනකින් ලියන්න. (සෑම වාක්‍යයකම වචන 05ට වැඩි විය යුතු ය. උක්ත ආබ්‍යාස සම්බන්ධය හා අක්ෂර වින්‍යාසය නිවැරදි විය යුතු ය.)

1. ....
2. ....
3. ....



**පෙරහුරු ප්‍රශ්න පත්‍රය - 2023**

**පළිතුරු පත්‍රය - කට්ටල අංක 02**

**II පත්‍රය**

- (01) 1. අනිකුත් අප රට වැසියෝ (ල - 01)  
 2. මහ රබාන හෙවත් බංකු රබාන / මහ රබාන / බංකු රබාන (ල - 01)  
 3. අප (ල - 01)  
 4. රබාන (ල - 01)  
 5. වූහ. / නැවුහ. / විනෝද වූහ. (ල - 01)  
 6. රට වැසියෝ මඟුල් ගෙවල්වල රබන් වයා විනෝද වෙති. (ල - 01)
- (02) 1. ✓ 2. ✗ 3. ✗ 4. ✓ 5. ✗ (ල - 05)
- (03) ගියා ය. (ල - 01)
- (04) ළමයි රළ පාගමින් වෙරළේ ඔබ මොබ දුවති. (ල - 02)
- (05) i. කළමනාකරණය ii. යෙවණැල්ල (ල - 02)
- (06) වෛද්‍යවරිය උද දසන ම රෝගීන් පරීක්ෂා කළා ය. (ල - 01)
- (07) i. පුවත (ල - 01)  
 ii. "හරි අපුරු කතාවක් නේ!" මට කියවුණේ ඉබේටම ය. (ල - 01)
- (08) මුරුංගා අත්තේ තියනවා. (ල - 01)
- (09) 

දිත් පාපිල්ල	දිරිස ඉස්පිල්ල	කෙටි ඇඳපිල්ල	කොප්පුව සහිත හල් කිරීමේ ලකුණ
වූ / වූහ.	පිටත්	දැරියත්	පවුලේ

 (ල - 04)
- (10) i. Parrot ii. Pineapple (ල - 02)
- (11) i. How old are you ?  
 ii. I help you to cut vegetables (ල - 02)
- (12) i. ආපේප ii. පලතුරු (ල - 02)
- (13) යනළුවා (ල - 01)
- (14) උංගල් වනුප්පු එදු ? (ල - 01)
- (15) පන්දහස් දහනවයයි. (ල - 02)
- (16) 800 (ල - 02)
- (17) 7000 + 500 + 0 + 9 (ල - 02)
- (18) වට 50 (ල - 02)

(19)



(ල - 02)

(20) 1500

(ල - 02)

(21) 85 , 93

(ල - 02)

(22) 331

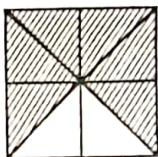
(ල - 02)

(23) 3cm පළල 5cm දිග කොටුවක් (සෘජුකෝණාස්‍රාකාර) ඇඳ ඇත්නම් ලකුණු දෙන්න. (ල - 02)

(24) 350 ml

(ල - 02)

(25)



(ල - 02)

(26) රු. 15 සහ 50 පි.

(ල - 02)

(27) i. 1313

ii. 9606

(ල - 02)

(28) ප.ව. 6.15

(ල - 02)

(29) 10 Kg 50 g

(ල - 02)

(ලකුණු 62)

(30) 3

(38) 2

(46) 3

(53) 1

(31) 1

(39) 2

(47) 2

(54) 3

(32) 1

(40) 1

(48) 3

(55) 1

(33) 2

(41) 3

(49) 2

(56) 3

(34) 3

(42) 3

(50) 3

(57) 1

(35) 1

(43) 2

(51) 1

(58) 3

(36) 2

(44) 2

(52) 2

(59) 1

(37) 3

(45) 1

(60) රචනයට එක් වැනියකට ලකුණු 02 බැගින් වැඩි තුනට ලකුණු 06 පි.

(ලකුණු 06 පි.)

පිරිසිදුකම හා පිළිවෙළ සඳහා

(ලකුණු 02 පි.)