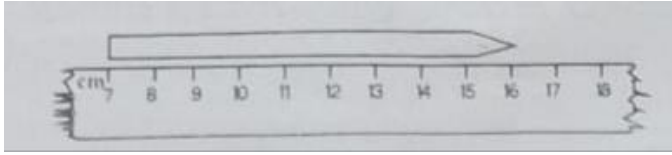
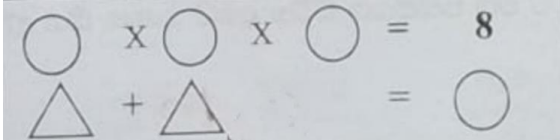


(01) 22 m දිග පැන්සලක් පාවිච්චි කිරීමෙන් අනතුරුව පැන්සලේ දිග පහත කෝණවෙන් දක්වා ඇත. පැන්සල කොපමණ ප්‍රමාණයක දුරක් පාවිච්චි කර තිබේද?

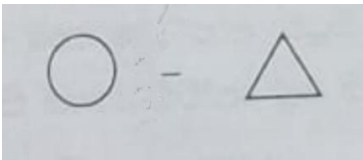


1. 8 m
2. 13 m
3. 16 m

පහත රූප සටහන ඇසුරින් **02 , 03** ප්‍රශ්න වලට පිළිතුරු සපයන්න.

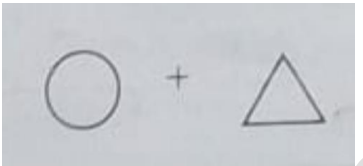


(02) අගය කීයද?



1. 2
2. 1
3. 3

(03) අගය කීයද?



1. 2
2. 1
3. 3

පහත මිල දර්ශනය ඇසුරින් පහත ප්‍රශ්න සඳහා පිළිතුරු සපයන්න.

භාණ්ඩය	එකක මිල	ගත් ප්‍රමාණය	ගෙවිය යුතු මුදල
වීදුරු බෝල	සහ 50	4	රු.....
තයිල් කවර	රු.8.00	2	රු.....
ගෙවිය යුතු මුදල			රු.....

(04) වීදුරු බෝල සඳහා ගෙවිය යුතු මුදල කීයද?

1. රු. 2.00
2. රු. 4.00
3. රු. 6.00

(05) තයිල් කවර සඳහා ගෙවිය යුතු මුදල කීයද?

1. රු. 16.00

2. රු. 8.00

3. රු. 15.00

(06) විදුරු බෝල හා ගයිල් කවර මිලදී ගැනීමට වැයවන මුදල කීයද?

1. රු.20.00

2. රු.16.00

3. රු.18.00

(07) රාජ්‍ය ලාංඡනයේ ධර්මය නිරූපනය වන සංකේතයකි.

1. වී කරලේ

2. පලාපෙනි

3. ධර්ම චක්‍රය.

(08) රාජ්‍ය ලාංඡනයේ සදාකතනික පැවැත්ම මූර්තියක් වන්නේ,

1. සිංහයාගෙන්

2. පුන්කලසින්

3. ඉර හඳ දෙකෙන්

(09) රටාව හඳුනාගෙන නිෂ්කූලන පුරවන්න.

8	6
12	15	3
9	5	7

1. 9

2. 10

3. 8

(10) සමනලයාගේ ජීවන චක්‍රයේ පණුවා අවස්ථාවේ දී ආහාරයට ගනු ලබන්නේ,

1. ශාක පත්‍ර

2. ගෙඩි වර්ග

3. මල් රේණු

1. 2	5. 1	9. 2
2. 2	6. 3	10. 1
3. 3	7. 3	
4. 1	8. 3	