



මිශ්‍ර ප්‍රශ්න පත්‍ර - (2023)

5 - ශ්‍රේණිය

1. පහත දී ඇති රටාවෙහි රීළභව ආ යුතු රූපය තෝරන්න.



I.



ii.



iii.



2. දී ඇති රූප සටහනේ කිරස් අතට ඇති සෑම පේළියක ම එකතුව එක සමාන අගයක් ගන්නා ලෙස සම්පූර්ණ කිරීමට අවශ්‍ය නම් A, B හා C අක්ෂර පිහිටි කොටු තුනට ගැළපෙන සංඛ්‍යා පිළිවෙළින් අඩංගු පිළිතුර තෝරන්න

4	9	2
A	5	C
8	B	6

i. 5, 1, 5

ii. 3, 7, 1

iii. 5, 1, 3


3. ජනවාරි මාසයක හරි මැද දවස බදාදා දවසක් වේ. එම මාසයට ඇති බදාදා දවස් ගණන කොපමණ ද?

I. 4

ii. 5

iii. 4 හෝ 5

4. කිරිවල් ඔරලෝසුවක් වේලාව කැඩපතකින් බැලූ විට පෙනෙන ආකාරය පහත දැක්වේ. තව මිනිත්තු නවයකින් වේලාව කීයද?

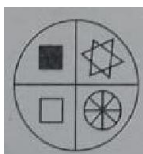
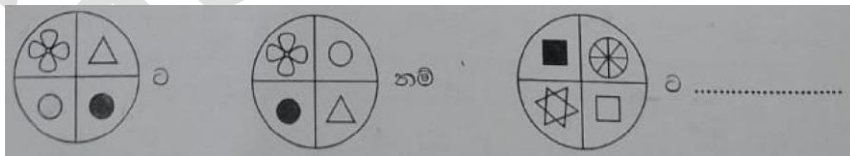


I. 21 : 31

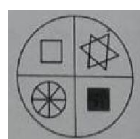
ii. පෙරවරු 9.40

iii. පස්වරු 9.40

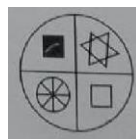
- 5.



i.



ii.



iii.

6. රුවන්, කණිෂ්ක, හරිත් ප්‍රභාත් සහ දිමුතු එකම පංතියක ඉගෙනුම ලබන යහළුවන් පස් දෙනෙකි. රුවන් ප්‍රභාත්ට වඩා උසින් අඩු නමුත් කණිෂ්කට වඩා උසින් වැඩිය. හරිත් කණිෂ්කට වඩා උසින් අඩු නමුත්, දිමුතුට වඩා උසින් වැඩි ය. උසින් වැඩි ම තැනැත්තා කවුද?

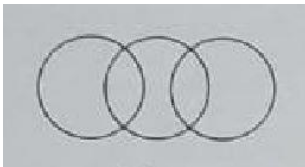
- i. රුවන්
- ii. ප්‍රභාත්
- iii. කණිෂ්ක

7. යම් රහස් ක්‍රමයකට Clouds යන්න ලියා ඇත්තේ Codlus ලෙස නම් Window යන වචනය එම රහස් භාෂාවෙන් ලියා ඇති ආකාරය කුමක් ද?

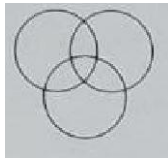
- i. wnoidw
- ii. wodniw
- iii. Idwonw

8. මුලින් දී ඇති වචනවල සම්බන්ධතාවය හොඳින් ම නිරූපණය වන පිළිතුරු තෝරන්න.

ගිරවුන්, පක්ෂීන්, වදුරන්



i.



ii.



iii.

9. පෝලිමක වම් පසින් ඇරුණ හයවන ස්ථානයේ සිටියි. වරුණි සිටින්නේ දකුණු පසින් දසවන ස්ථානයේ ය. මේ දෙදෙනා අතර තවත් ළමුන් අට දෙනෙකු සිටි නම් පෝලිමේ සිටින මුළු ළමුන් ගණන කොපමණ ද?

- i. 16
- ii. 22
- iii. 24

10. පහත දී ඇති සංඛ්‍යා රටාව නිරීක්ෂණය කර ප්‍රශ්නාථර්ය සහිත ස්ථානයට යෙදිය යුතු සංඛ්‍යාව තෝරන්න.

2	9	8	81
<hr/>			
3	4	?	16

- i. 21
- ii. 27
- iii. 35

ANSWERS

1. 3
2. 1
3. 2
4. 3
5. 1
6. 2
7. 1
8. 3
9. 3
10. 2