

1. දී ඇති රූපයට වඩාත් සමාන වන සේ ඇඳ ඇති රූපය තෝරන්න.



i

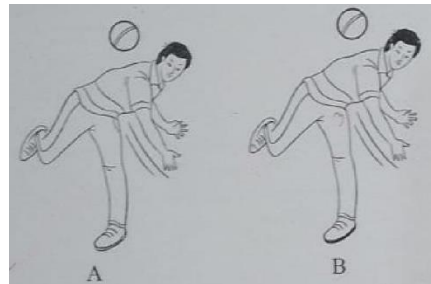


ii



iii

2. A රූපයට සමාන රූපයක් ලබා ගැනීම සඳහා B රූපයේ සිදු කළ යුතු වෙනස්කම් ගණන කීය ද?




i. 2

ii. 3

iii. 4

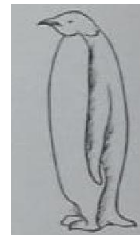
3. කොටුව තුළ දී ඇති කාණ්ඩයට ඇතුළත් කිරීමට වඩාත් ගැළපෙන රූපය කුමක් ද?



i.

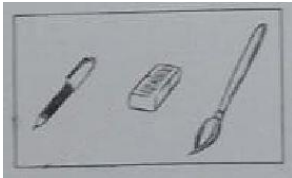


ii.

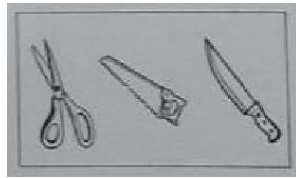


iii.


4. වඩාත් හොඳ අන්තර් සම්බන්ධතාවයක් දැකිය හැකි රූප ඇතුළත් කොටුව තෝරන්න.



i.

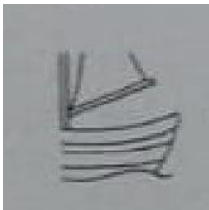


ii.



iii.

5. පහත දී ඇති රූපය සම්පූර්ණ කිරීමට කුමන රූප කැබැල්ල සම්බන්ධ කළ යුතු ද?



i.

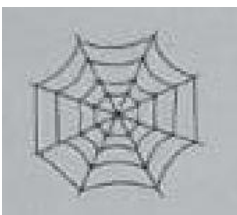


ii.



iii.

6. මුලින් දී ඇති රූප කොටස් තුනම එකතු කර සකසා ඇති රූපය තෝරන්න.



i.



ii.




iii.

7. රූප වලින් දක්වා ඇති අවස්ථා තුන පිළිවෙළින් ගලපා ගත හැකි ආකාර දෙකක් ඇත. එම අවස්ථා තුන පිළිවෙළින් ගලපා ගත නොහැකි පිළිතුර තෝරන්න.




- i. CAB
- ii. CBA
- iii. BAC

8. රූපයේ හිස් කොටසට වඩාත් ගැලපෙන රූපය තෝරන්න



i.

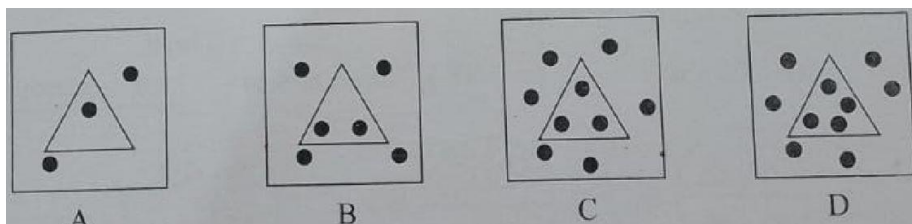


ii.




iii.

9. නොගැලපෙන රූපයට අදාළ ඉංග්‍රීසි අක්ෂරය තෝරන්න.



- i. B
- ii. C
- iii. D

10. පහත රූපයේ දැකිය හැකි මුළු ත්‍රිකෝණ ගණන කීයද?



- i. 8
- ii. 12
- iii. 16

ANSWERS

- 1. 2
- 2. 2
- 3. 1
- 4. 2
- 5. 1
- 6. 2
- 7. 2
- 8. 1
- 9. 3
- 10.3