

05 වසර

මිශ୍ର අභයාස

අංක 37



A3book.com



1. පැය $3\frac{3}{4}$ කට ඇති මිනිත්තු ගණන කීය ද?

(1) 30යි

(3) 45යි

(2) 25යි

2. අධික අවුරුද්දකට ඇති දින ගණන කීයද?

(1) 365කි

(2) 366කි.

(3) 367කි

3. එක් පැත්තක සෙන්ටිමීටර් 75ක් දිග සහ චතුරස්‍රයක් සෑදීම සඳහා අවශ්‍ය කරන කම්බියක දිග සෙන්ටිමීටර්වලින් කොපමණ ද?

(1) සෙ.මී. 300

(2) සෙ.මී. 375

(3) සෙ.මී. 325

• අංක 4 හා 5 සඳහා නිවැරදි පිළිතුර තෝරන්න.

4. කෙන්ද කන්ද කරලා" යන සම්ප්‍රදායික යෙදුමෙන් අදහස් වන්නේ කුමක්ද?

(1) කෙඳි වලින් කන්දක් සෑදීම

(2) කන්දක් නැගීම

(3) සුළු දේ විශාල කිරීම

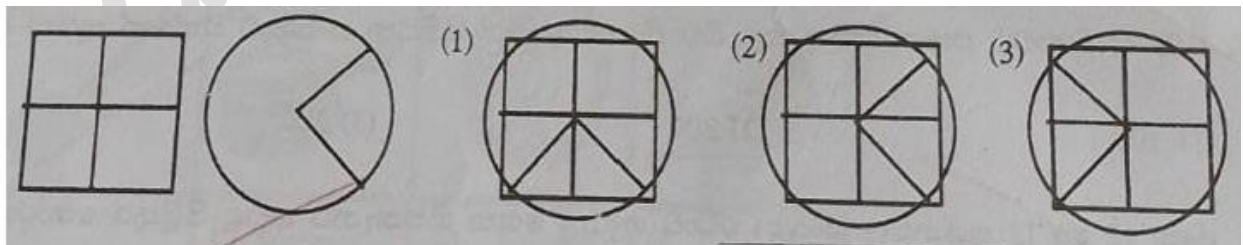
5. කොටි වලිගය අල්ලා ගන්නා වගේ යන ප්‍රස්තාව පිරුළෙන් අදහස් වන්නේ,

(1) යමක් කිරීමට හෝ නොකර සිටීමට නොහැකි අසිරුතාවකට පත් වීම.

(2) කොටියකුගේ වලිගය ඇල්ලීම් භයානක බව.

(3) කොටින්ගේ වලිගය නොඇල්ලිය යුතු බව.

06. පළමු ව දී ඇති රූප දෙක එක මත තැබූ විට දැකිය හැකි රූපය මේ අතරින් කුමක්ද?



- අංක 07 හා 08 දක්වා ප්‍රශ්න සඳහා දී තිබෙන කොටු අතරින් අන්තර් සම්බන්ධතාවක් සහිත වචන ඇතුළත් කොටුව තෝරන්න.

07.

(1) පුස්තකාලය - පොත් - කියවීම

(2) පුස්තකාලය - විවේකය - ලිවීම

(3) විවේකය - නිවාඩුව - විනෝදය

08.

(1) සනකය - සනකාභය - ත්‍රිකෝණය

(2) වෘත්තය - ත්‍රිකෝණය - සමචතුරස්‍රය

(3) සිලින්ඩරය - වෘත්තය - චතුස්තලය

* අංක 09 හා 10 ප්‍රශ්න සඳහා දී තිබෙන කවිය ඇසුරින් පිළිතුරු සපයන්න

09. දුර රටකින් මා මෙහි පැමිණෙන්නේ - ඛක් මස පැමිණෙන බව පවසන්නේ

උත්සව සැණකෙළි අසිරි බලන්නේ - කවුරු ද මාගේ නම් පවසන්නේ



10. ගුමු ගුමු නාදය නිති පතුරමිනා - මල් මත රඳනා රොන් ගෙන යන්නා

ප්‍රණීත රස ආහාර සකසනා - නම මගෙ කියනා ඔහු වේ හපනා



05 වසර

මිශ୍ର අභ්‍යාස

අංක 37

පිළිතුරු



A3book.com



1. පැය $3\frac{3}{4}$ කට ඇති මිනිත්තු ගණන කීය ද?

(1) 30යි

(3) 45යි

(2) 25යි

2. අධික අවුරුද්දකට ඇති දින ගණන කීයද?

(1) 365කි

(2) 366කි.

(3) 367කි

3. එක් පැත්තක සෙන්ටිමීටර් 75ක් දිග සහ චතුරස්‍රයක් සෑදීම සඳහා අවශ්‍ය කරන කම්බියක දිග සෙන්ටිමීටර්වලින් කොපමණ ද?

(1) සෙ.මී. 300

(2) සෙ.මී. 375

(3) සෙ.මී. 325

• අංක 4 හා 5 සඳහා නිවැරදි පිළිතුර තෝරන්න.

4. කෙන්ද කන්ද කරලා" යන සම්ප්‍රදායික යෙදුමෙන් අදහස් වන්නේ කුමක්ද?

(1) කෙඳි වලින් කන්දක් සෑදීම

(2) කන්දක් නැගීම

(3) සුළු දේ විශාල කිරීම

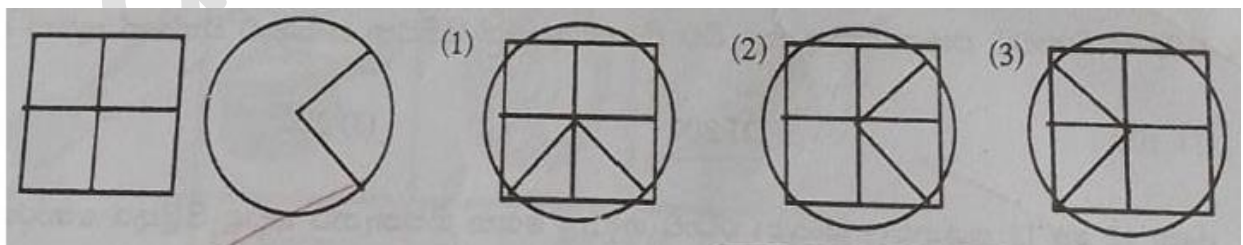
5. කොටි වලිගය අල්ලා ගන්නා වගේ යන ප්‍රස්තාව පිරුළෙන් අදහස් වන්නේ,

(1) යමක් කිරීමට හෝ නොකර සිටීමට නොහැකි අසීරුතාවකට පත් වීම.

(2) කොටියකුගේ වලිගය ඇල්ලීම් භයානක බව.

(3) කොටින්ගේ වලිගය නොඇල්ලිය යුතු බව.

06. පළමු ව දී ඇති රූප දෙක එක මත තැබූ විට දැකිය හැකි රූපය මේ අතරින් කුමක්ද?



- අංක 07 හා 08 දක්වා ප්‍රශ්න සඳහා දී තිබෙන කොටු අතරින් අන්තර් සම්බන්ධතාවක් සහිත වචන ඇතුළත් කොටුව තෝරන්න.

07.

(1) පුස්තකාලය - පොත් - කියවීම

(2) පුස්තකාලය - විවේකය - ලිවීම

(3) විවේකය - නිවාඩුව - විනෝදය

08.

(1) සනකය - සනකාභය - ත්‍රිකෝණය


(2) වෘත්තය - ත්‍රිකෝණය - සමචතුරස්‍රය

(3) සිලින්ඩරය - වෘත්තය - චතුස්තලය

* අංක 09 හා 10 ප්‍රශ්න සඳහා දී තිබෙන කවිය ඇසුරින් පිළිතුරු සපයන්න

09. දුර රටකින් මා මෙහි පැමිණෙන්නේ - ඛක් මස පැමිණෙන බව පවසන්නේ

උත්සව සැණකෙළි අසිරි බලන්නේ - කවුරු ද මාගේ නම් පවසන්නේ



10. ගුමු ගුමු නාදය නිති පතුරමිනා - මල් මත රඳනා රොන් ගෙන යන්නා

ප්‍රණීත රස ආහාර සකසනා - නම මගෙ කියනා ඔහු වේ හපනා

