




### මිශ්‍ර ප්‍රශ්න පත්‍ර - (2023)


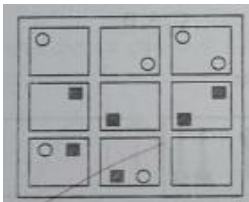
### 5 - ශ්‍රේණිය

අංක 10

01) කොටුව තුළ ඇති කාණ්ඩයට ඇතුළත් කිරීමට වඩාත් ගැළපෙන රූපය කුමක් ද ?



02) හිස් කොටුවට ගැළපෙන පිළිතුර තෝරන්න.



03) “ඉබ්බාගෙන් පිහාටු ඉල්ලනවා වගේ” යන යෙදුම පැහැදිලි කරන ප්‍රකාශය කුමක් ද?

- (1) ඉතා වෙහෙස මහන්සි වී යමක් ලබා ගැනීම.
- (2) ඉබ්බන් හා පක්ෂීන්ගෙන් පිහාටු ඇති බව.
- (3) කිසිදු ලබාගත නොහැකි දෙයක් වෙනුවෙන් වෙහෙස වීම.

04) රටාව අනුව ඊළඟට ගැළපෙන රූපය කුමක් ද?



(1)

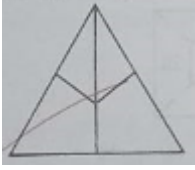


(2)



(3)

05) මෙම රූපයේ දැකිය හැකි ත්‍රිකෝණ ගණන කීය ද?



- (1) 4                      (2) 5                      (3) 6

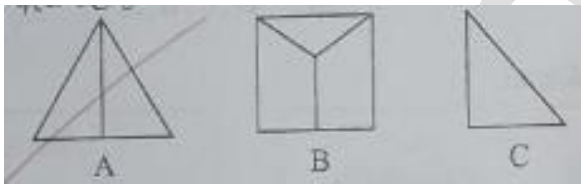
06) පින්තූරයක් පෙන්වූ චතුක මෙහි සිටින්නේ මගේ නංගිගේ මවගේ එකම පුතා බව පවසයි. ඒ අනුව මෙහි සිටින්නේ,

- (1) චතුකගේ අයියා                      (2) චතුකගේ මාමා                      (3) චතුක

(07) දින 31 ක් ඇති එක්තරා මාසයක පළමුවෙනිදා බදාදා දවසකි. එම මාසයේ 30 වෙනිදා,

- (1) අඟහරුවාදා දවසකි  
(2) බදාදා දවසකි  
(3) බ්‍රහස්පතින්දා දවසකි

(08) පහත එක් එක් රූපයේ ඇතුළත් සෘජුකෝණ සංඛ්‍යාව වැඩිවන අනුපිළිවෙළට පෙළගස්වා ඇති පිළිතුර වන්නේ,



- (1) A,B,C  
(2) A,C,B  
(3) C,A,B

(09) වැටක මිටර 3 න් 3 ට සම දුරින් සිටින සේ කණු 33 ක් එක පෙළට සිටුවා ඇත. වැටේ දිග කොපමණ ද?

- (1) මිටර 96                      (2) මිටර 99                      (3) මිටර 101

(10) ඉසුම් 1 m දිග, 30cm පළල කඩදාසියක් ගෙනොවා ය. ඇය එයින් 10cm ක් දිග, 5cm පළල වූ කොඩි කපා ගන්නා ය. ඇය කපා ගත් කොඩි ගණන කීය ද?

- (1) 30                      (2) 50                      (3) 60

- |    |   |     |   |
|----|---|-----|---|
| 1) | 2 | 6)  | 3 |
| 2) | 3 | 7)  | 3 |
| 3) | 3 | 8)  | 3 |
| 4) | 2 | 9)  | 1 |
| 5) | 2 | 10) | 2 |

එකතුව  $10 \times 10 = 100$