



Education Social Media Network

මිශ්‍ර ප්‍රශ්න පත්‍ර - 113 (2023)


5 - ශ්‍රේණිය

01. පහත සතුව අතරින් පක්ෂයෙකු නොවන්නේ,

- (1) උලඹ (2) වවුලා (3) බකමුණා

02. මේ අයුරින් අහසේ සඳ දැකිය හැකි වන්නේ.

- (1) පුර පසළොස්වක
(2) අව අටවක
(3) පුර අටවක



03. ශ්‍රී ලංකාවේ රාජ්‍ය ලාංඡනයෙන් සදාකාලික පැවැත්ම නිරූපණය වන්නේ,

- (1) ඉර හා සඳ (2) පළා පෙති (3) ධර්ම චක්‍රය

04. වන්ද්‍රග්‍රහණයක් අපට දැකිය හැකි පොහොය වන්නේ

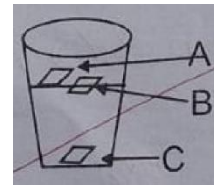
- (1) පසළොස්වක (2) පුර අටවක (3) අව අටවක

05. "හැඹිලිය" නම් වූ උපරණය භාවිතා කරන්නේ.

- (1) මුදල් ආරක්ෂා සහිතව ගෙන යාම සඳහා (2) බත කිවා ගැනීමට (3) වී වේළා ගැනීමට

06. අයිස් කැටියක් රෙජිෆෝම් කැබැවැත්, යම් ගුලියක් රූපයේ දැක්වෙන පරිදි බදුදුනට දමා ඇත. ඒවා පිහිටන නිවාරදි ආකාරය වන්නේ,

- | | | |
|--------------------------|----------------------|----------------------|
| (1) A - අයිස් | B - රෙජිෆෝම් කැබැල්ල | C - ඊයම් |
| (2) A - රෙජිෆෝම් කැබැල්ල | B - අයිස් | C - ඊයම් |
| (3) A - ඊයම් | B - අයිස් | C - රෙජිෆෝම් කැබැල්ල |



07. සතුන්ගෙන් යැපෙන ශාකයක් නොවන්නේ,

- (1) කඳුලැස්ස (2) බාඳුරා (3) කොස්

08. සීගිරිය " නම් වූ කලාත්මක හා ඓතිහාසික ස්ථානය අයත් දිස්ත්‍රික්කය වන්නේ,

- (1) මාතර (2) මාතලේ (3) අනුරාධපුරය

09. ලියක් කැටයමක් කපා ගැනීමේ දී නියඟට තට්ටු කිරීමට වඩාත්ම සුදුසු උපකරණය වන්නේ

- (1) වරක්කලය (2) අත කොළුව (3) අඩු මිටිය

10. වඩු හා පෙදරේරු කර්මාන්ත දෙකේ ම ප්‍රයෝජනයට ගත හැකි උපකරණයකි.

(1) යතු කැටය

(2) ලඹය

(3) මුළු මට්ටම



A3book.com

Education Social Media Network

මිශ්‍ර ප්‍රශ්න පත්‍ර - 113 (2023)

5 - ශ්‍රේණිය

පිළිතුරු



01. පහත සතුව අතරින් පක්‍ෂයෙකු නොවන්නේ,

(1) උලමා

(2) වවුලා


(3) බකමුණා

02. මේ අයුරින් අඟසේ සඳ දැකිය හැකි වන්නේ.

(1) පුර පසළොස්වක

(2) අව අටවක

(3) පුර අටවක



03. ශ්‍රී ලංකාවේ රාජ්‍ය ලාංඡනයෙන් සදාකාලික පැවැත්ම නිරූපණය වන්නේ,

(1) ඉර හා සඳ

(2) පළා පෙති

(3) ධර්ම චක්‍රය

04. වන්ද්‍රග්‍රහණයක් අපට දැකිය හැකි පොහොය වන්නේ

(1) පසළොස්වක

(2) පුර අටවක

(3) අව අටවක

05. "හැඹිලිය" නම් වූ උපරණය භාවිතා කරන්නේ.

(1) මුදල් ආරක්ෂා සහිතව ගෙන යාම සඳහා

(2) බත කිවා ගැනීමට

(3) වී වේලා ගැනීමට

06. අයිස් කැටියක් රෙජිෆෝම් කැබැල්ලක්, යම් ගුලියක් රූපයේ දැක්වෙන පරිදි බදුදුනට දමා ඇත. ඒවා පිහිටන නිවාරදි ආකාරය වන්නේ,

(1) A - අයිස්

B - රෙජිෆෝම් කැබැල්ල

C - ඊයම්

(2) A - රෙජිෆෝම් කැබැල්ල

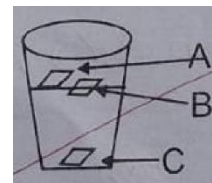
B - අයිස්

C - ඊයම්

(3) A - ඊයම්

B - අයිස්

C - රෙජිෆෝම් කැබැල්ල



07. සතුවගෙන් යැපෙන ශාකයක් නොවන්නේ,

ප්‍රකාශන හිමිකම © 2023 A3BOOK.

සියලු හිමිකම් ඇවිරිණි

web : www.a3book.com

(1) කඳුලැස්ස

(2) බාඳුරා

(3) කොස්

08. සිගිරිය " නම් වූ කලාත්මක හා ඓතිහාසික ස්ථානය අයත් දිස්ත්‍රික්කය වන්නේ,

(1) මාතර

(2) මාතලේ

(3) අනුරාධපුරය

09. ලියක් කැටයමක් කපා ගැනීමේ දී නියඟට තට්ටු කිරීමට වඩාත්ම සුදුසු උපකරණය වන්නේ

(1) වරක්කලය

(2) අත කොලුව

(3) අඩු මිටිය

10. වඩු හා පෙදරේරු කර්මාන්ත දෙකේ ම ප්‍රයෝජනයට ගත හැකි උපකරණයකි.

(1) යතු කැටය

(2) ලඹය

(3) මුළු මට්ටම