



Education Social Media Network

මිශ්‍ර ප්‍රශ්න පත්‍ර - 120 (2023)

5 - ශ්‍රේණිය

- අංක 01 සිට 02 දක්වා වූ ප්‍රශ්නවල දී තිබෙන සිදුවීම් අනුපිළිවෙළ අනුව හිස් තැනට යෙදිය යුතු වාක්‍යය තෝරා යටින් ඉරක් අඳින්න

01 (a) පදික මාරුව වෙත පැමිණීම (b)

(c) යළිත් මාර්ගය දෙපස බැලීම (d) මාර්ගය හරහා ගමන් කිරීම

1 කොළ පැහැති සංඥාව දැල්වෙන තෙක් සිටීම 2 පදික මාරුවට ප්‍රවේශ වීම

3 මාර්ගයේ ගමන් කරන වාහන අතින් සංඥා කොට නැවැත්වීම

02 (a) (b) උදෑසන ආහාර ගැනීම

(c) ඇඳුම් ඇඳීම (d) පාසලට පිටත් වීම

1 ඇඳුම් මැදීම 2 දත් මැදීම හා මුව සේදීම 3 තේ පානය කිරීම

- අංක 3 හා 4 යන ප්‍රශ්න සඳහා දී තිබෙන ප්‍රකාශ අතරින් ල වඩාත් ම නිවැරදි ව අර්ථය ප්‍රකාශ කෙරෙන වාක්‍යය තෝරන්න

03) a රටකට අත්‍යවශ්‍ය දෙයකි සාමය b සාමය රටකට අත්‍යවශ්‍ය දෙයකි C අත්‍යවශ්‍ය දෙයකි රටකට සාමය

04) a කාලය අපතේ හැරීම අපරාධයකි b අපතේ හැරීම කාලය අපරාධයකි C අපරාධයකි කාලය අපතේ හැරීම.

- 05 හා 06 යන ප්‍රශ්න වල හිස්තැනට අදාළ ආදාළ සංඛ්‍යාව තෝරන්න.

05) 5 3 8

2.....3 (a) 4 (b) 5 (c) 3

7 8 1

06) 7 1 9

1 9 ... (a) 4 (b) 3 (c) 2

9 1 2

ප්‍රශ්න අංක 07 සිට 09 දක්වා නිවැරදි පිළිතුර තෝරා යටින් ඉරක් අඳින්න.

07) එය මට කපු කතවා වගේ වැඩක් " යනුවෙන් පැවසූ විට අදහස් වන්නේ

(a) එය ඉතා ම පහසු කාර්යයක් බවයි. (b) එය ඉතාම අසීරු කාර්යයක් බවයි.

(c) එය කළ නො හැකි කාර්යයක් බව යි.

08) මිනිස්කම අන් සියල්ලට ම වඩා උතුම් ය. යන ප්‍රකාශයෙන් අදහස් වන්නේ

(a) මිනිස්කම හැර අන් සියල්ල ම වැදගත් නොවන බවයි.

(b) මිනිස්කම යනු මිනිසුන් තුළ තිබිය යුතු ම ගුණාංගයක් බව යි.

(c) අන් සියල්ලට ම වඩා මිනිසා උතුම් බවයි.


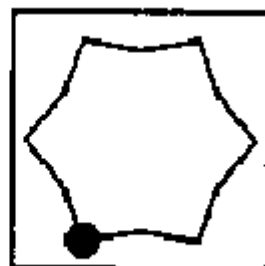
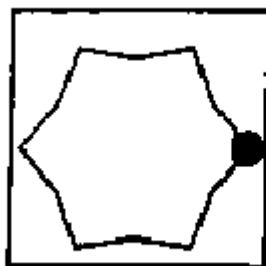
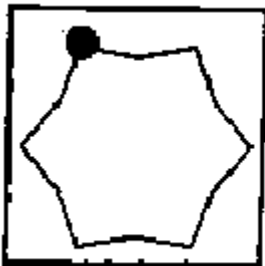
09) පහත වාක්‍ය අතරින් නිවැරදි ව ගළපා ඇති වාක්‍යය තෝරන්න.

(a) විනිත ළමයි අවවාද දෙන ගුරුවරුන් පිළිගනිති.

(b) විනිත අවවාද දෙන ළමයි ගුරුවරුන් පිළිගනිති.

(c) විනිත ළමයි ගුරුවරුන් දෙන අවවාද පිළිගනිති.

10) පහත දැක්වෙන රූප සකස් වී තිබෙන රටාව හඳුනාගෙනල එම රටාවට ගැළපෙන රූපය තෝරන්න.



A3book.com

Education Social Media Network

මිශ්‍ර ප්‍රශ්න පත්‍ර - 120 (2023)

5 - ශ්‍රේණිය

පිළිතුරු

QUIZ

- අංක 01 සිට 02 දක්වා වූ ප්‍රශ්නවල දී තිබෙන සිදුවීම් අනුපිළිවෙළ අනුව හිස් තැනට යෙදිය යුතු වාක්‍යය තෝරා යටින් ඉරක් අඳින්න

01 (a) පදික මාරුව වෙත පැමිණීම (b)

(c) යළිත් මාර්ගය දෙපස බැලීම (d) මාර්ගය හරහා ගමන් කිරීම

1 කොළ පැහැති සංඥාව දැල්වෙන තෙක් සිටීම

2 පදික මාරුවට ප්‍රවේශ වීම

3 මාර්ගයේ ගමන් කරන වාහන අතින් සංඥා කොට නැවැත්වීම

02 (a) (b) උදෑසන ආහාර ගැනීම

(c) ඇඳුම් ඇඳීම (d) පාසලට පිටත් වීම

1 ඇඳුම් මැදීම

2 දත් මැදීම හා මුව සේදීම

3 තේ පානය කිරීම

- අංක 3 හා 4 යන ප්‍රශ්න සඳහා දී තිබෙන ප්‍රකාශ අතරින්ල වඩාත් ම නිවැරදි ව අර්ථය ප්‍රකාශ කෙරෙන වාක්‍යය තෝරන්න

03) a රටකට අත්‍යවශ්‍ය දෙයකි සාමය b සාමය රටකට අත්‍යවශ්‍ය දෙයකි C අත්‍යවශ්‍ය දෙයකි රටකට සාමය

04) a කාලය අපතේ හැරීම අපරාධයකි b අපතේ හැරීම කාලය අපරාධයකි C අපරාධයකි කාලය අපතේ හැරීම.

- 05 හා 06 යන ප්‍රශ්න වල හිස්තැනට අදාළ ආදාළ සංඛ්‍යාව තෝරන්න.

05) 5 3 8

2.....3

(a) 4

(b) 5

(c) 3

7 8 1

06) 7 1 9

1 9 ...

(a) 4

(b) 3

(c) 2

9 1 2

ප්‍රශ්න අංක 07 සිට 09 දක්වා නිවැරදි පිළිතුර තෝරා යටින් ඉරක් අඳින්න.

07) එය මට කපු කනවා වගේ වැඩක් " යනුවෙන් පැවසූ විට අදහස් වන්නේ

(a) එය ඉතා ම පහසු කාර්යයක් බවයි.

(b) එය ඉතාම අසීරු කාර්යයක් බවයි.

(c) එය කළ නො හැකි කාර්යයක් බව යි.

08) මිනිස්කම අත් සියල්ලට ම වඩා උතුම් ය. යන ප්‍රකාශයෙන් අදහස් වන්නේ

(a) මිනිස්කම හැර අන් සියල්ල ම වැදගත් නොවන බවයි.

(b) මිනිස්කම යනු මිනිසුන් තුළ තිබිය යුතු ම ගුණාංගයක් බව යි.

(c) අන් සියල්ලට ම වඩා මිනිසා උතුම් බවයි.

09) පහත වාක්‍ය අතරින් නිවැරදි ව ගළපා ඇති වාක්‍යය තෝරන්න.

(a) විනිත ළමයි අවවාද දෙන ගුරුවරුන් පිළිගනිති.

(b) විනිත අවවාද දෙන ළමයි ගුරුවරුන් පිළිගනිති.

(c) විනිත ළමයි ගුරුවරුන් දෙන අවවාද පිළිගනිති.

10) පහත දැක්වෙන රූප සකස් වී තිබෙන රටාව හඳුනාගෙනල එම රටාවට ගැළපෙන රූපය තෝරන්න.

