



මිශ්‍ර ප්‍රශ්න පත්‍ර - (2023)

5 - ශ්‍රේණිය

(01) පහත ප්‍රකාශ සඳහා ගැලපෙන තනි පද තෝරන්න.

රාත්‍රියේ හැසිරෙන,

- 1) ක්ෂීරපායී 2) නිශාවර 3) උභය ජීවී


(02) කැඩී බිඳී ගොස් ඉතිරි වූ පෞරාණික කොටස්,

- 1) ගොඩනැගිලි 2) ප්‍රතිසංස්කරණය 3) නටඹුන්

(03) පියවරුන් දෙදෙනෙක් සහ පුතුන් දෙදෙනෙක් සිටින තැනට සිටිය හැකි අවම පිරිමින් ගණන ,

- 1) 2 2) 4 3) 2

(04) මෙම ගොඩනැගීමට යොදාගෙන ඇති කුඩා ස්තක ගණන කීයද ?



- 1) 12 2) 16 3) 10


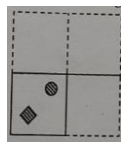
(05) මල්ලි කහපාටට අකමැති නමුත් නිල් හා රතු පාටට කැමතිය. නංගි රතු හා කහ පාටට කැමති අතර නිල් පාටට අකමැතිය. අක්කා රතු හා නිල් වලට කැමති අතර කහ පාටට අකමැතිය .වැඩි දෙනෙක් අකමැති වර්ණය වනුයේ,

- 1) කහ 2) නිල් 3) රතු


(06) 2m පළල 10m ක් දිග බිමකට 1m දිග 1m පළල කොන්ක්‍රීට් කැට ඇල්ලීමට අවශ්‍ය කැට ගණන කීයද ?

- 1) 5 2) 10 3) 20

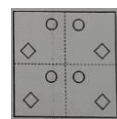
(07) මුල් රූපයෙන් කඩදාසි කැබැල්ලක් හතරට නමා එහි සිදුරු කීපයක් විඳ ඇති ආකාරය දැක්වේ. මෙම කඩදාසි කැබැල්ල නැවත දිගහැරිය විට දැකිය හැකි රූපය තෝරන්න.



1)



2)



3)

(08) අංක 8 හා 9 ප්‍රශ්න වල දී ඇති ඒවායින් තුනක් එක් කාණ්ඩයකට වෙන් කළ හැකි අතර දෙකක් තවත් කාණ්ඩයට වෙන්කළ හැකිය. දෙකක් අයත් කාණ්ඩයට අයත් පිළිතුර වන්නේ,

මිහිර ,විජය ,ගුවන් ගුවන්විදුලිය ,රූපවාහිනිය ,වූට් බබා

- 1)විජය ,වූට් බබා 2)රූපවාහිනි, මිහිර 3)ගුවන්විදුලිය ,රූපවාහිනිය

(09) සමවතුරසුය, වෘත්තය, ඝනකය, සිලින්ඩරය ,සෘජුකෝණාස්‍රය

- 1) සමවතුරසුය,වෘත්තය 2) වෘත්තය ,සිලින්ඩරය 3)ඝනකය ,සිලින්ඩරය

(10) නදිර සුගත්ට වඩා ගණිතයට දක්ෂ ය .නිපුන නදිරට ට වඩා ගණිතයට දක්ෂ වුවත් පියුමාල් තරම් දක්ෂ නැත. ඒ අනුව ගණිතයට වඩා දක්ෂ කවුද ?

- 1) පියුමාල් 2) නදිර 3)නිපුන

පිළිතුරු

01) 2

02) 3

03) 2

04) 2

05) 1

06) 3

07) 1

08) 3

09) 3

10) 1

a3book.com