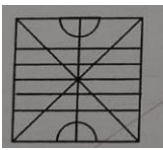
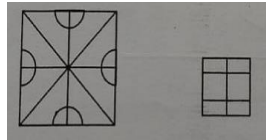




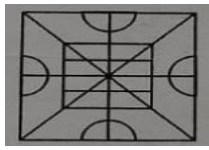
මිශ්‍ර ප්‍රශ්න පත්‍ර - (2023)

5 - ශ්‍රේණිය

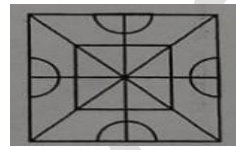
(01) විනිවිද පෙනෙන කඩදාසියකින් සකසා ඇති මුලින් දී ඇති රූප දෙක එක මත එක තැබූ විට ලැබෙන රූපය තෝරන්න.



1)



2)



3)

(02) අංක 2 හා 3 සඳහා මුලින් දැක්වෙන කොටුව තුළ ඇති සංඛ්‍යා දෙක වෙනුවට යෙදිය හැකි සංඛ්‍යා සහිත කොටුව තෝරන්න.

$$23 + \boxed{65 + 20} = 108$$

1) $40 * 2$

2) $75 + 10$

3) $100 - 25$

(03)

$$38 + \boxed{10 \times 5} = 88$$

1) $250 / 10$

2) $185 / 6$

3) $200 / 4$

(04) 4235 සංඛ්‍යාවේ ඇති ඉරට්ටු සංඛ්‍යා වල එකතුව කීයද ?

1) 14

2) 8

3) 6

(05) පහත ගණිත ගැටළු වේ හිස් කොටු ලකුණු යොදා ඇති ස්ථානයට ආ යුත්තේ එකම ඉලක්කමකි. එම ඉලක්කම දී ඇති පිළිතුරු අතරින් තෝරන්න.

$$\begin{array}{r} 12\Box \\ \Box 14 \\ \hline 4\Box 7 \end{array}$$

1) 3

2) 4

3) 5

(06) කවියේ හිස් තැනට සුදුසු වචනය තෝරන්න.

අහසේ තරු වැල් පිරිලා - පොළොවේ සුදු මල් පිපිලා

..... ගෙවල් දෙකක් වගෙයි

මේ දෙපළම හැඩ ගැහිලා

- 1) මළ 2) මදාන 3) මහල්

(07) පහත වගුවේ A හා B වෙනුවට වඩාත් ගැලපෙන වචන යුගලය තෝරන්න.

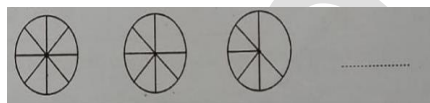
ක්‍රීඩා උපකරණ	ගෘහ භාණ්ඩ	A
යතුලිය	B	කුල්ල
පිත්ත	ඇඳ	පොතේරය

- 1) ප්ලාස්ටික් භාණ්ඩ ,මේසය 2) මුළුතැන්ගෙයි උපකරණ, මේසය 3) මැටි භාණ්ඩ, පුටුව

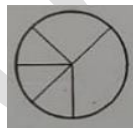
(08) හොඳින් ප්‍රශ්නය කියව්වොත් නිවැරදි පිළිතුර ලිවිය හැකිය.

- 1) මෙය සැම විට ම සත්‍ය වේ 2) මෙය බොහෝ විට සත්‍ය වේ 3) මෙය කිසි විටෙකත් සත්‍ය නොවේ

(09) අංක 9 සහ 10 ප්‍රශ්න සඳහා මුලින් දැක්වෙන රූප තුනේ සම්බන්ධතාවය තේරුම්ගෙන ඊළඟට ආ යුතු රූපය තෝරන්න.



1)

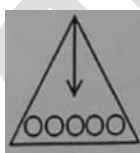



2)

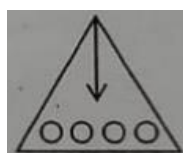


3)

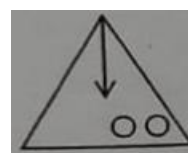
(10)



1)



2)



3)

පිළිතුරු

01) 2

02) 2

03) 3

04) 3

05) 1

06) 3

07) 2

08) 1

09) 1

10) 2

a3book.com