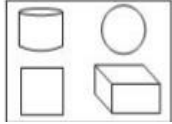




මිශ්‍ර ප්‍රශ්න පත්‍ර - (2023)

5 - ශ්‍රේණිය

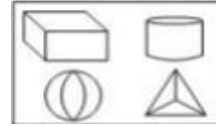
(01) පහත කොටු තුනෙන් එකක දැක්වෙන රූප එක්තරා ආකාරයකට සමානකමක් ඇත. එම රූපය තෝරන්න.



1)



2)



3)

(02) පහත දී ඇති රූපයේ අඳුරු කළ කොටසක සමානවන රූප කොටස තෝරන්න.



1)



2)



3)

(03) බස් රථයක දෙනෙකුට වාඩිවිය හැකි ආසන 10ක් ද, පස් දෙනෙකුට වාඩිවිය හැකි ආසන දෙකක් ද තිබේ. එහි වාඩි විය හැකි මගීන් ගණන කොපමණද ?

1) 20

2) 25

3) 30

(04) එක්තරා රෝගියෙකුට දිනකට බෙහෙත් පෙති හතර බැගින් දින 30ක් බෙහෙත් බීමට නියමිතය. එක් පැකට්ටුවක බෙහෙත් පෙති 50ක් ඇත. එසේ නම් රෝගියා මිලදී ගත යුතු බෙහෙත් පෙති පැකට් ගණන කීයද ?

1) 2

2) 3

3) 4


(05) ළමයි පිරිසක් පේළියක සිටගෙන සිටී. නිම්සරා පේළියෙන් මැද සිටින අතර ඇයට ඉදිරියේ ළමයි දාහතරක් සිටියි. පේළියේ සිටින මුළු ළමයි ගණන කොපමණද ?

1) 28


2) 29

3) 30


අංක 6 සහ 7 ජර්ශනවලට පිළිතුරු සැපයීම සඳහා අකුරු වෙනුවට යොදා ඇති සංකේත යොදා ගන්න.




(06) "සරසවිය" යන වචනය සංකේත යොදා ලියා ඇති ආකාරය වන්නේ,




1)



2)



3)

(07)  සංකේත යොදා ලියා ඇති වචනය වන්නේ,

1) සමගිර

2) සවියම

3) සමගිය

(08) පින්තූරයක් පෙන්වූ අයෙක් "මේ පින්තූරය සිටින අයගේ පියා මාගේ මවගේ ස්වාමියාය" මෙලෙස ප්‍රකාශ කරයි. මේ අනුව රූපයේ සිටින්නේ ඔහුගේ,

1) බිරිඳ

2) පියා

3) සහෝදරයා

(09) පහත වචන කාණ්ඩ අතර කිසියම් සම්බන්ධයක් ඇත. එලෙස සම්බන්ධතාවයක් නොමැති පදය තෝරන්න.

අඟල්, රියන්, යාර, මීටර

1) අඟල්

2) යාර

3) මීටර

(10) පහත වචන කාණ්ඩ අතර කිසියම් සම්බන්ධයක් ඇත. එලෙස සම්බන්ධතාවයක් නොමැති පදය තෝරන්න.

කිලෝග්‍රෑම්, රාත්තල්, ග්‍රෑම්, මිලිග්‍රෑම්

1) මිලිග්‍රෑම්

2) රාත්තල්

3) ග්‍රෑම්

පිළිතුරු

01) 3

02) 1

03) 3

04) 2

05) 2

06) 2

07) 3

08) 2

09) 1

10) 2

a3book.com