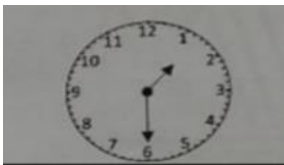
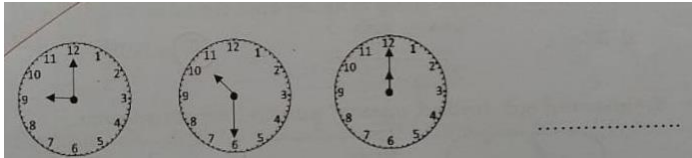




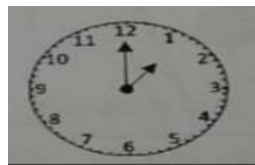
## මිශ්‍ර ප්‍රශ්න පත්‍ර - (2023)

## 5 - ශ්‍රේණිය

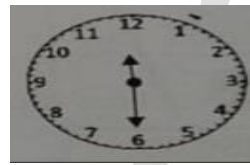
(01) රටාව අනුව රිළුමට එන රූපය තෝරන්න.



1)

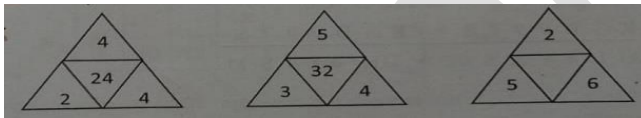


2)



3)

(02) සංඛ්‍යා රටාව හඳුනාගෙන හිස්තැනට ගැළපෙන පිළිතුර තෝරන්න.



1) 13

2) 42

3) 60

(03) වට්ටියක අරලිය මල් හා නාමල් දහයක් ඇත. ඒවායේ මුළු පෙති ගණන 45කි. වට්ටියේ ඇති අරලිය මල් ගණන කීයද ?

1) 4කි

2) 8කි

3) 5කි

(04) වන්දනා නඩයක් සෑම වසර දෙකකට වරක් සිරිපා වන්දනාවේ යයි. ඔවුන් 2020 වර්ෂයේ එහි ගියේ පස්වන වරට නම් ඔවුන් පළමුවරට සිරිපා ගිය වර්ෂය කුමක්ද ?

1) 2012

2) 2010

3) 2011


(05) පහත අවස්ථා වලට අනුව වඩාත් ඇතට ජලය විදින සිදුර සහිත භාජනය තෝරන්න.



1)

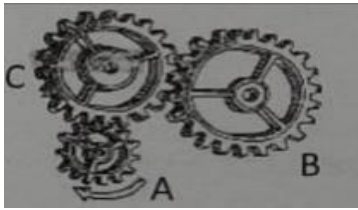


2)



3)

(06) පහත දැක්වෙන්නේ එකිනෙකට සම්බන්ධ කර ඇති දැති රෝද කට්ටලයකි. A අකුරින් දක්වා ඇති දැති රෝදය ඊතලයෙන් දක්වා ඇති දෙසට කැරකවෙයි. ඒ අනුව පහත ප්‍රකාශ අතුරෙන් නිවැරදි පිළිතුර තෝරන්න.



- 1) A හා B එකම දිශාවට කැරකවෙයි .
- 2) A වටයක් කැරකෙන විට C එක වටයක් කැරකවෙයි.
- 3) A හා C එකම දිශාවට කැරකවෙයි

(07) වමරි ගැහැණු ළමයෙකි. ඇයගේ නංගි වන හිරුනිට සහෝදරයන් තිදෙනෙකු හා සහෝදරියන් දෙදෙනෙකු සිටී.


වමරිට සිටින සහෝදරයන් ගණන කීයද ?

- 1) 2
- 2) 3
- 3) 4

(08) වමරිගේ දෙමාපියන්ට සිටින දරුවන් ගණන කීයද ?

- 1) 6
- 2) 5
- 3) 7

(09) මුලින් දී ඇති රූපයේ අඩු කොටසට ගැලපෙන පිළිතුර තෝරන්න.



1)



2)



3)

(10) 2021 වසරේ ජනවාරි 1 සිකුරාදා නම්, අප්‍රේල් 10 දවස කවදාද ?

- 1) බ්‍රහස්පතින්දා
- 2) සෙනසුරාදා
- 3) සිකුරාදා

## පිළිතුරු

01) 1

02) 2

03) 3

04) 1

05) 3

06) 1

07) 2

08) 1

09) 3

10) 2