



- අංක 1 හා 2 ප්‍රශ්න වලල දී තිබෙන වචන පේළි අතරින් අනෙක් වචන සමඟ නො ගැළපෙන වචනයක් සහිත වචන පේළිය තෝරන්න.

01 (1) දුවනවා - පනිනවා - නටනවා - ක්‍රියා පද (2) බල්ලා - බළලා - මියා - නයා (3) කියන-නියන - ලඟය - උපකරණ

02 (1) පන්සල - පල්ලිය - කෝවිල - ආගම (2) ප්‍රවාහනය - දුම්රිය - නැව - බසය (3) කැවුම් කිරිබත් - කොකිස් කෝම්පිටුව

- අංක 3 සිට 4 දක්වා වූ ප්‍රශ්න සඳහා කවිය ඇසුරින් පිළිතුරු සපයන්න.

ප්‍රංචි ප්‍රංචි නිල් තරු කැට - අහස පුරා දිදුලන විට

සුළං හා එක විට - බල අරුමය පිනි බිඳු වට

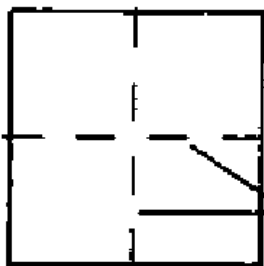
3. මෙම කවිය මගින් කියැවෙන්නේ දවසේ කිනම් කාලයක් ගැනද

(1) දිවා කාලය (2) සවස් කාලය (3) රාත්‍රී කාලය

4 මෙම කවියේ "වට" යන පදයෙන් අදහස් වන්නේ කුමක්ද

(1) රවුම (2) වැටුණු (3) කවය

05 පහත රූපයේ දක්වා තිබෙන්නේ සමචතුරස්‍රාකාර කඩදාසියක් හතරට නමා ඉන් කොටසක් ඉවත්කොට තිබෙන අයුරුයි. එහි කඩ ඉරි මගින් පෙන්වා තිබෙන්නේ නැමුම් රේඛා වේ. එසේ නමාල කපා ගත් කඩදාසිය යළිත් දිගහැරිය විට දැකිය හැකි හැඩය වන්නේ කුමක්ද?




නැමුම් රේඛා



හතරට නැමූ කඩදාසිය

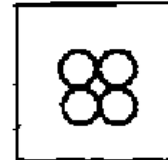
කැපුම්



(1)

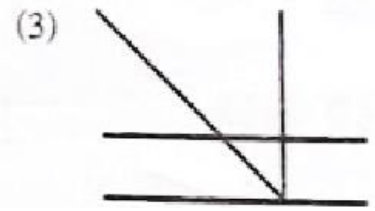
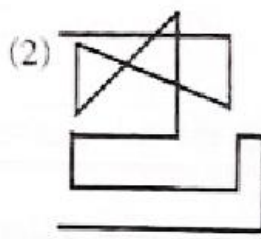
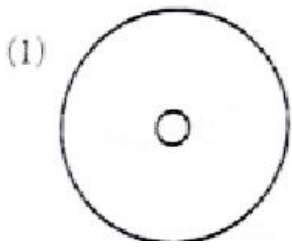


(2)



(3)

06. පහත දැක්වෙන රූප අතරින් අත ඉවතට නොගෙන, අඛණ්ඩ ව ඇඳිය හැකි රූපය කුමක්ද?



• අංක 7 හා 8 ප්‍රශ්න සඳහා අසත්‍ය ප්‍රකාශය තෝරන්න.

07. (1) වාහන පාරේ ධාවනය කළ යුත්තේ වම් පැත්තෙනි.
 (2) අමාවක දිනයේ දී පූර්ණ චන්ද්‍රයාගෙන් රාත්‍රිය ආලෝකවත් විය.
 (3) අධික වර්ෂාවෙන් ගංගා, ඇළදොළ පිරී ඉතිරි ගියේ ය.
08. (1) අම්මා උදු කොටා, කුරහන් තලප සෑදුවා ය.
 (2) තුනපහ යනු ස්වභාවික රසකාරකයකි.
 (3) අපි දළදා වහන්සේ වන්දනා කිරීමට මහනුවරට ගියෙමු.

• අංක 29 හා 30 ප්‍රශ්නවල වැරදි ප්‍රකාශය තෝරන්න.

09. (1) $7 \times 2 + 9 = 23$ (2) $6 + 17 - 3 = 20$ (3) $18 + 2 \times 3 = 52$
10. (1) $32 + 18 - 15 = 35$ (2) $66 + 21 - 16 = 69$ (3) $34 - 14 + 10 = 30$



A3book.com

Education Social Media Network

මිශ්‍ර ප්‍රශ්න පත්‍ර - 121 (2023)

5 - ශ්‍රේණිය

පිළිතුරු



• අංක 1 හා 2 ප්‍රශ්න වලට දී තිබෙන වචන පේළි අතරින් අනෙක් වචන සමඟ නො ගැළපෙන වචනයක් සහිත වචන පේළිය තෝරන්න.

- 01 (1) දුවනවා - පනිනවා - නටනවා - ක්‍රියා පද (2) බල්ලා - බළලා - මියා - නයා (3) කියන-නියන - ලඹය - උපකරණ
- 02 (1) පන්සල - පල්ලිය - කෝවිල - ආගම (2) ප්‍රවාහනය - දුම්රිය - නැව - බසය (3) කැවුම් කිරිබත් - කොකිස් කෝම්පිටුව

• අංක 3 සිට 4 දක්වා වූ ප්‍රශ්න සඳහා කවිය ඇසුරින් පිළිතුරු සපයන්න.

පුංචි පුංචි නිල් තරු කැට - අහස පුරා දිදුලන විට

සුළං හා එක විට - බල අරුමය පිති බිඳු වට

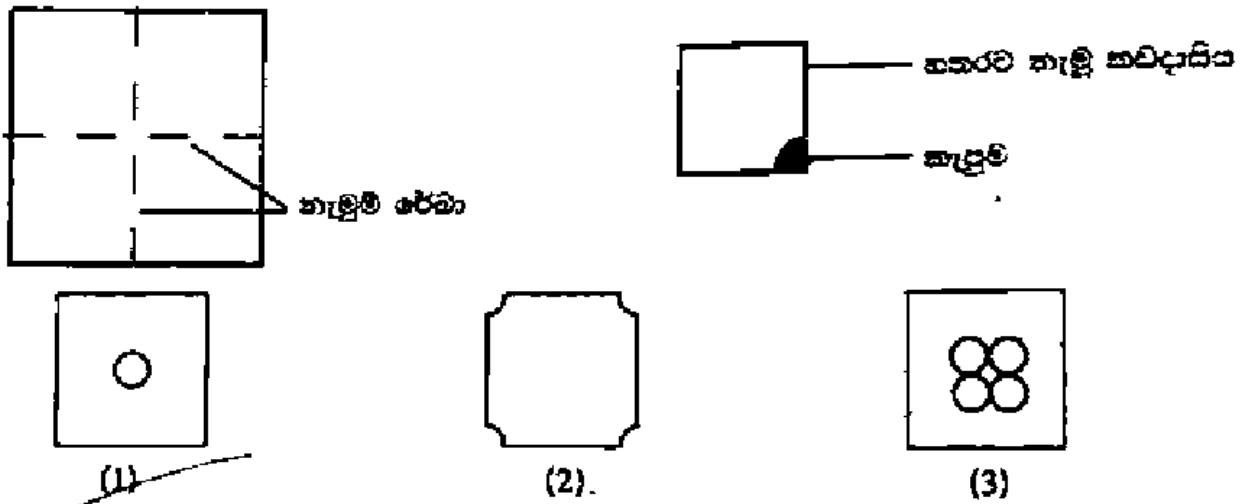
3. මෙම කවිය මගින් කියැවෙන්නේ දවසේ කිනම් කාලයක් ගැනද

- (1) දිවා කාලය (2) සවස් කාලය (3) රාත්‍රී කාලය

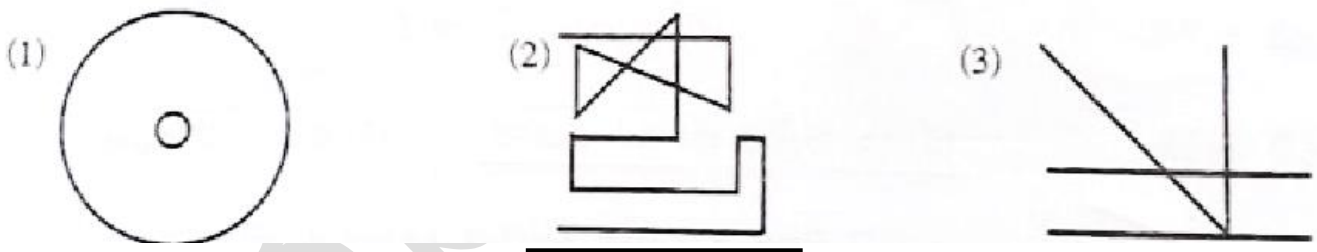
4 මෙම කවියේ "වට" යන පදයෙන් අදහස් වන්නේ කුමක්ද

- (1) රවුම (2) වැටුණු (3) කවය

05 පහත රූපයේ දක්වා තිබෙන්නේ සමචතුරස්‍රාකාර කඩදාසියක් හතරට නමා ඉන් කොටසක් ඉවත්කොට තිබෙන අයුරුයි. එහි කඩ ඉරි මගින් පෙන්වා තිබෙන්නේ නැමුම් රේඛා වේ. එසේ නමාල කපා ගත් කඩදාසිය යළිත් දිගහැරිය විට දැකිය හැකි හැඩය වන්නේ කුමක්ද?



06. පහත දැක්වෙන රූප අතරින් අත ඉවතට නොගෙන, අඛණ්ඩ ව ඇඳිය හැකි රූපය කුමක්ද?



• අංක 7 හා 8 ප්‍රශ්න සඳහා අසත්‍ය ප්‍රකාශය තෝරන්න.

07. (1) වාහන පාරේ ධාවනය කළ යුත්තේ වම් පැත්තෙනි.
 (2) අමාවක දිනයේ දී පූර්ණ චන්ද්‍රයාගෙන් රාත්‍රිය ආලෝකවත් විය.
 (3) අධික වර්ෂාවෙන් ගංගා, ඇළදොළ පිරී ඉතිරි ගියේ ය.
08. (1) අම්මා උදු කොටා, කුරහන් තලප සෑදුවා ය.
 (2) තුනපහ යනු ස්වභාවික රසකාරකයකි.
 (3) අපි දළදා වහන්සේ වන්දනා කිරීමට මහනුවරට ගියෙමු.

• අංක 29 හා 30 ප්‍රශ්නවල වැරදි ප්‍රකාශය තෝරන්න.

09. (1) $7 \times 2 + 9 = 23$

(2) $6 + 17 - 3 = 20$

(3) $18 + 2 \times 3 = 52$

10. (1) $32 + 18 - 15 = 35$

(2) $66 + 21 - 16 = 69$

(3) $34 - 14 + 10 = 30$

a3book.com