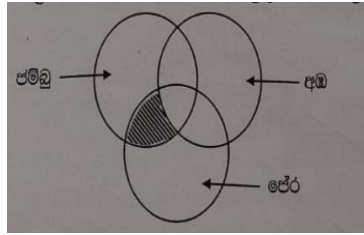




## මිශ්‍ර ප්‍රශ්න පත්‍ර - (2023)

## 5 - ශ්‍රේණිය

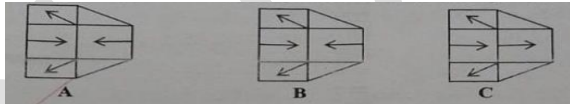
(01) පහත දැක්වෙන්නේ ළමයින් පිරිසක් කැමට කැමති පලතුරු වර්ග පිළිබඳ තොරතුරුයි.



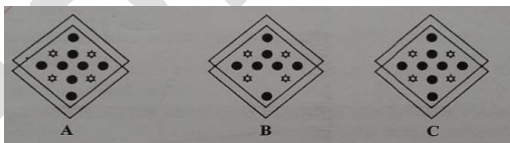
අපුරු කල කොටසින් දැක්වෙන්නේ,

- 1) පේරා හා පමිටු පමණක් කැමට කැමති ළමයි
- 2) පමිටු පමණක් කැමට කැමති ළමයි
- 3) අඹ හා පමිටු කැමට කැමති ළමයි.

(02) අංක 2 සහ 3 ජර්ශනවල දී ඇති රූප වලින් දෙකක් සමානය. එම රූප දෙක මොනවාද ?



- 1) A හා B
- 2) A හා C
- 3) B හා C



- 1) A හා B
- 2) A හා C
- 3) B හා C

(04) අංක 4 හා 5 ප්‍රශ්නවලදී දී ඇති සංඛ්‍යා වල රටාවක් ඇති වීම සඳහා ඉවත්කල යුතු සංඛ්‍යා මොනවාද ?

17, 15, 13, 12, 11, 9

- 1) 13
- 2) 12
- 3) 9

(05) 38, 43, 46, 48, 53, 58

- 1) 46
- 2) 53
- 3) 58

කවිය කියවා 6 සහ 7 ප්‍රශ්න වලට පිළිතුරු තෝරන්න.

කැරවෙලේ සෑය උඩින්

රැන් රැන් රැන් ගිරව්

කෑම සොයා උදෑසනින්

ඉගිළි එනවා

(06) දික් ඇදපිල්ල යෙදුනු වචන කීයක් කවියේ සඳහන් වේද ?

1) 9 කි

2) 7 කි

3) 5 කි

(07) "වෙහෙර" යන අදහස් ගෙන දෙන වචනය කවියෙන් සොයා තෝරන්න.

1) සෑය

2) රැන්

3) උඩින්

(08) පුද්ගලයින් පස් දෙනෙක් එකිනෙකාට අතට අත දෙයි නම් ඔවුන් අතට අත දෙන වාර ගණන වන්නේ,

1) 10 යි

2) 20 යි

3) 15 යි

(09) දුර පැනීමේ තරගයක ක්‍රීඩකයින් ලබාගත් දක්ෂතා පහත දැක්වේ. ඒ ඇසුරින් 9 සහ 10 ප්‍රශ්න වලට පිළිතුරු සපයන්න.

දුෂේන් 4m 25cm

අමීන් 3m 80cm

ගයාන් 3m 95cm

තරුක 4m 10cm

වැඩිම දක්ෂතාවය දැක්වූ ක්‍රීඩකයා කවුද ?

1) තරුක

2) අමීන්

3) දුෂේන්

(10) පළමු ස්ථානය දිනා ගත් ක්‍රීඩකයා හා අවසන් ස්ථානය ලබා ගත් ක්‍රීඩකයා අතර දුරෙහි වෙනස වන්නේ,

1) 65 cm

2) 45 cm

3) 30 cm

## පිළිතුරු

- 01) 1
- 02) 1
- 03) 2
- 04) 2
- 05) 1
- 06) 2
- 07) 1
- 08) 1
- 09) 3
- 10) 2

a3book.com