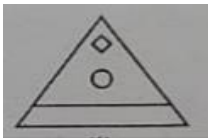
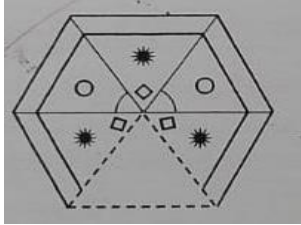




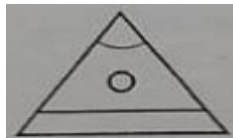
මිශ්‍ර ප්‍රශ්න පත්‍ර - (2023)

5 - ශ්‍රේණිය


(01) රූපය සම්පූර්ණ කිරීමට අවශ්‍ය කොටස ඇතුළත් පිළිතුර තෝරන්න.



1)



2)



3)

(02) මුල් රූපයට සමාන රූපය තෝරන්න.



1)



2)



3)

(03) පහත ප්‍රකාශන ලෙස බලා ප්‍රශ්න අංක 3 සහ 4 සඳහා පිළිතුරු සපයන්න.

$$73 * 13 = 43 \odot$$



ලකුණින් දැක්වෙන ගණිත කර්මය වන්නේ,

1) අඩු කිරීම

2) එකතු එකතු

3) බෙදීම



ලකුණින් දැක්වෙන ගණිත කර්මය වන්නේ ,

1) බෙදීම

2) ගුණ කිරීම

3) එකතු කිරීම

(05) ඔරලෝසුවක පැය කටුවත් මිනිත්තු කටුවත් සිරස් රේඛාවක් ලෙස සහ තිරස් රේඛාවක් ලෙස පිහිටන අවස්ථාවකි.

1) 2.20 වේ

2) 3.00 වේ

3) 4.45 වේ

(06) " නවදහස් අට " යන සංඛ්‍යාවේ ඇති ඉලක්කම් වල එකතුව කීයද ?

1) 4

2) 17

3) 20

(07) කට, අත කකුල, බඩ ,කමිසය ,කන යන ඒවායින් නොගැලපෙන වචනය තෝරන්න.

1) කකුල

2) කමිසය

3) කන

(08) එක්තරා ගමක මල් පැල ප්‍රදර්ශනයක් සදුදා දවසක ආරම්භ වී දින හතරක් පුරා පැවැත්විණි .එය අවසන් වූ දවස කුමක්ද ?

1) බ්‍රහස්පතින්දා

2) සිකුරාදා

3) සෙනසුරාදා

(09) "සිත්තරාවිය " යන වචනයේ අකුරු මගින් සෑදිය හැකි වචනයකි.

1) තාරාවිය

2) විනය

3) සිවිය

(10) දී ඇති ද්‍රව්‍ය යුගල වලින් පළමුවැන්න භාවිතා කිරීමට දෙවැන්න අත්‍යවශ්‍ය වන ද්‍රව්‍ය යුගලය අඩංගු පිළිතුර තෝරන්න.

1) වළඳ - කරමුඩිය

2) පහන - තෙල්

3) ඇණය - මිටිය

පිළිතුරු

01) 2

02) 1

03) 2

04) 2

05) 2

06) 2

07) 2

08) 1

09) 3

10) 2