



මිශ්‍ර ප්‍රශ්න පත්‍ර - (2023)




5 - ශ්‍රේණිය

1. සමන් සිටින්නේ පේළියේ ඉදිරිපස සිට 6 වෙනියාට ය. ඔහුට පිටුපසින් පේළියේ තවත් 7 දෙනෙකු සිටියි. පේළියේ සිටින මුළු ළමුන් ගණන කීය ද?

- i. 12
ii. 13
iii. 14

2. රූපය දෙස A දෙසින් බැලූ විට පෙනෙන ආකාරය වන්නේ,

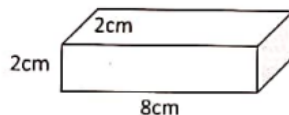


- i.  ii.  iii. 

3. බැගයක රතුපාට බෝල 3 ක්, නිල් පාට බෝල 2 ක් ඇත. බැගය දෙස නොබලා අනිවාර්යයෙන් නිල්පාට බෝලයක් ගැනීමට එකවර බෝල කීයක් ගත යුතු ද?

- i. 02
ii. 03
iii. 04

4. රූපයේ දැක්වෙන ආකාරයේ ඝනකාභයක් යොදාගෙන උස, දිග, පළල 1cm වන කුඩා ඝනක කොටස් කීයක් කපාගත හැකි ද?



- i. 16
ii. 32
iii. 24

5. අයිශාගේ වයස නංගිගේ වයස මෙන් දෙගුණයකි. දෙදෙනාගේ ම වයස්වල එකතුව අවුරුදු 30 ක් නම් අයිශාගේ වයස කීය ද?

- i. 10
- ii. 15
- iii. 20

6. ටැංකියකට නළයකින් ජලය පිරවීමට මිනිත්තු 30 ක් ගතවේ. එවැනි නළ තුනකින් 'එකවර එම ටැංකිය පුරවයි නම් ටැංකිය පිරවීමට ගතවන කාලය කොපමණ ද?

- i. මිනිත්තු 90
- ii. මිනිත්තු 15
- iii. මිනිත්තු 10

7. අධික අවුරුද්දක් වූ වෂර් දෙකකි

- i. 1875, 1926
- ii. 2020, 1984
- iii..2013, 2000

8. පහත දැක්වෙන්නේ කවියක පද 4 කි

- A මහ පුදුමයි - ලීඳ පතුළෙන්
- B තරු පිරිලා - ආකාසේ
- C පොකුරු පොකුරු - තරු බබළයි
- D මල් පිපිලා - සේ දිලිසේ

- i. B D A C
- ii. D A B C
- iii. A B C D

9. කුඩයක අඹ, දොඩම්, ජම්බු යන පලතුරු ප්‍රමාණයන් පහත පරිදි තිබුණි



කුඩයේ වැඩියෙන් ම ඇති පලතුරු වගර්ය වන්නේ,

- i. අඹ
- ii. දොඩම්
- iii. ජම්බු

10. කුඩයේ ඇති පලතුරු ගණන අඩු බවේ සිට වැඩි බවට පිළිවෙළට පෙළ ගැස්වූ විට,

- i. අඹ, දොඩම්, ජම්බු
- ii. ජම්බු, දොඩම්, අඹ
- iii. දොඩම්, අඹ, ජම්බු

ANSWERS

1. 2
2. 2
3. 3
4. 2
5. 3
6. 3
7. 2
8. 1
9. 1
10. 2

a3book.