



මිශ්‍ර ප්‍රශ්න පත්‍ර - (2023)

5 - ශ්‍රේණිය

1. පහත රූපවල අඩු කොටස සම්පූර්ණ කිරීමට ගැළපෙන පිළිතුර තෝරන්න



i.



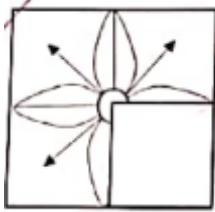
ii.



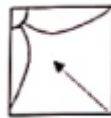
iii.



2.



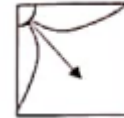
i.



ii.



iii.



3. පහත කාඩ්බෝඩ්වලින් කපන ලද A හා B හැඩතල A හැඩතලය මත B හැඩතලය තැබූ විට පෙනෙන ආකාරය දැක්වෙන පිළිතුර තෝරන්න.



i.



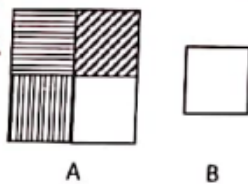
ii.



iii.



4.



i.



ii.



iii.



5. කුරිරු ගොර සපුන්ගේ දළගෙහි විසය.
මදුරු මැසි කැලන් ගේ තුඩෙහි විසය.
රුදුරු නුහුසුවන්ගේ වලගෙහි විසය.
නපුරු දුදනන්ගේ සියලුගෙහි ම විසය.

මෙම කවියේ සමස්ත අදහස වන්නේ,

- i. මදුරුවන් යනු අධික විස සහිත සතෙක් බවයි.
ii. නපුරු දුදන මිනිසුන් ඇසුරු නොකළ යුතු බවයි.
iii. මේ ලෝකයේ සියලුම දේ විස සහිත බවයි.

6. දකුණු පළාතේ හා මධ්‍යම පළාතේ කොරෝනා රෝගය නිසා නිරෝධායන ඇදිරි නීතිය පැන වූ බව පොලිස් මාධ්‍ය ප්‍රකාශකවරයා පවසා සිටියි. මේ අනුව ඇදිරි නීතිය බලාත්මකවන නගර දෙකක් වන්නේ,

- i. කොළඹ, රත්නපුර
ii. ගාල්ල, මාතලේ
iii. බදුල්ල, අනුරාධපුර

7. 19 වන සියවසේ 5 වන දශකයට අයත් වෂර්‍යකි.

- i. 1843
ii. 1945
iii. 1854

8. මිතුරන් 6 දෙනෙකු එකිනෙකා අතර සුබ පැතුම්පත් හුවමාරු කරගන්නා ලදී. ඔවුන් අතර හුවමාරු වූ මුළු සුබ පැතුම්පත් ගණන කීයද?

- i. 36
ii. 30
iii. 24

9. ගුරුතුමියක් සිසුන්ට නාම පද හඳුන්වා දීම සඳහා පහත ආකාරයේ කාඩ්පත් සකස් කර ගන්නා ලදී.

ඒක වචන - සමවතුරසු
ස්ත්‍රී ලිංග - රෝස පාට
බහු වචන - සෘජුකෝණාස්‍ර
පුරුෂ ලිංග - නිල් පාට

මේ අනුව,

'ගිරවා' යන නාමපදය යෙදීමට සුදුසු කාඩ්පත වන්නේ

- i. රෝස පාට සමවතුරසුයකි.
ii. නිල් පාට සෘජුකෝණාස්‍රයකි.
iii. නිල් පාට සමවතුරසුයකි.

10. රෝස පාට සෘජුකෝණාස්‍රයකට යෙදීමට සුදුසු නාම පදයකි

- i. නැන්දා
- ii. ත්‍රිඛෝණාස්‍රය
- iii. ගුණකය

ANSWERS

1. 1
2. 3
3. 1
4. 3
5. 2
6. 2
7. 1
8. 2
9. 3
10. 2