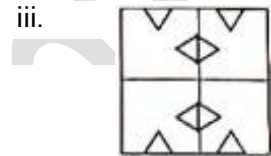
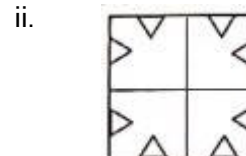
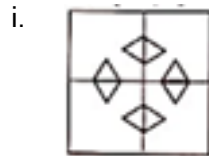
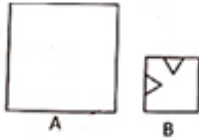





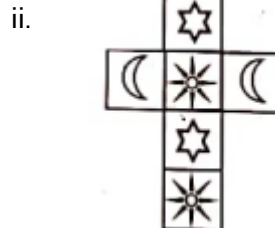
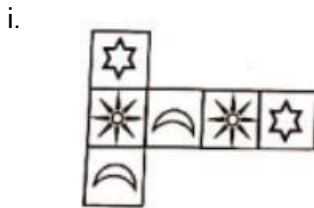
මිශ්‍ර ප්‍රශ්න පත්‍ර - (2023)

5 - ශ්‍රේණිය

1. A රූපයේ දැක්වෙන පරිදි සමවතුරප්‍රාකාර කඩදාසියක් හතරට නවා B රූපයේ පරිදි ස්ථාන 2 කින් කැපූ විට දැක්වෙන නිවැරදි පිළිතුර වන්නේ.



2. පහත සහ වස්තුවේ ප්‍රතිවිරුද්ධ මුහුණත්වල එකම රූපය ඇත. ඒ අනුව මෙම සහ වස්තුව සෑදීමට යොදාගත් පතොරම වන්නේ,



3. තරිදු උදෑසන පාසල් යනවිට ඔහුගේ සෙවණැල්ල ඔහුගේ පිටුපසින් ගමන් කළේ නම් ඔහු ගමන් කළ දිශාව වන්නේ,

- i. බස්නාහිර
ii. නැගෙනහිර
iii. දකුණ

4. පහත A හා B රූප දෙකෙහි වෙනස්කම් ගණන වන්නේ,

- i. 03
ii. 02
iii. 05



A



B

5. හත පද අතර කිසියම් සම්බන්ධයක් ඇත. එලෙස සම්බන්ධයක් නොමැති වචනය වන්නේ.

ඕලු, නෙලුම්, ඉද්ද, කුඹුදු, මානෙල්..


- i. කුඹුදු
- ii. ඉද්ද
- iii. මානෙල්

6. සෙන්ටිමීටර, මිලිලීටර, මිලිමීටර, කිලෝමීටර....


- i. මිලි ලීටර
- ii. මිලිමීටර
- iii. කිලෝමීටර

7. මෙම රූපය පිළිබඳ කියවෙන නිවැරදි ප්‍රකාශය වන්නේ,

- i. රූපයේ සෘජුකෝණාස්‍ර ගණන හා ත්‍රිකෝණ ගණන සමාන වේ.
- ii. රූපයේ වෘත්ත ගණන හා සෘජුකෝණාස්‍ර ගණන සමාන වේ.
- iii. රූපයේ වෘත්ත ගණන හා ත්‍රිකෝණ ගණන සමාන වේ.



8.



මෙම හැඩතලය ඉදිරියට පෙරළනවිට 'A' අකුර සහිත පාදය පිහිටන්නේ කුමන ඉලක්කම් දෙක අතර ද?

- i. 10 -12
- ii. 8 -10
- iii. 12-14

9. සිකිම් රටේ ඉපිද තරුණ විශේෂී ලංකාවට පැමිණ පැවිදි වී නිදහස් සටන වෙනුවෙන් කවි ගීත ලියමින් මිනිසුන් තුළ ජාත්‍යාලය වැඩි කිරීමට කටයුතු කළ හිමිනමකි.

- i. මිගෙට්ටුවන්නේ ගුණානන්ද හිමි.
- ii. වාරියපොළ ශ්‍රී සුමංගල හිමි.
- iii. ටිබෙට් ජාතික ඇස්. මහින්ද හිමි.

10. දොන් ඩේවිඩ් හේවාචාරණ නමින් ඉපිද ශ්‍රී ලාංකිකයන් අතර බුදු දහම නගා සිටු වීමට බොහෝ වෙහෙස වූ මෙතුමා ගවමස් කෑම, මත්පැන් බීම දැඩි සේ පිළිකුල් කළ අතර ඉන්දියාවේ දී සිරි දේවමිත්ත ධම්පාල නමින් පැවිදි විය.

- i. මිගෙට්ටුවන්නේ ගුණානන්ද හිමි.
- ii. වාරියපොළ ශ්‍රී සුමංගල හිමි.
- iii. ටිබෙට් ජාතික ඇස්. මහින්ද හිමි.

ANSWERS

1. 1
2. 2
3. 2
4. 1
5. 2
6. 1
7. 3
8. 1
9. 3
10. 3



a3book